



3 DE FEVEREIRO DE 1874

PODER JUDICIÁRIO

TRIBUNAL DE JUSTIÇA DO ESTADO DE SÃO PAULO

Concurso Público

001. PROVA OBJETIVA

Escrevente Técnico Judiciário

- Você recebeu sua folha de respostas e este caderno contendo 100 questões objetivas.
- Confira seu nome e número de inscrição impressos na capa deste caderno e na folha de respostas.
- Quando for permitido abrir o caderno, verifique se está completo ou se apresenta imperfeições. Caso haja algum problema, informe ao fiscal da sala.
- Leia cuidadosamente todas as questões e escolha a resposta que você considera correta.
- Marque, na folha de respostas, com caneta de tinta azul ou preta, a letra correspondente à alternativa que você escolheu.
- A duração da prova é de 5 horas, já incluído o tempo para o preenchimento da folha de respostas.
- Só será permitida a saída definitiva da sala e do prédio após transcorridas 2 horas e 30 minutos do início da prova.
- Ao sair, você entregará ao fiscal a folha de respostas e este caderno, podendo levar apenas o rascunho de gabarito, localizado em sua carteira, para futura conferência.
- Até que você saia do prédio, todas as proibições e orientações continuam válidas.

AGUARDE A ORDEM DO FISCAL PARA ABRIR ESTE CADERNO DE QUESTÕES.



LÍNGUA PORTUGUESA

01. Leia a charge.



(Folha de S.Paulo, 08.10.2014. Adaptado)

A lacuna na fala da personagem deve ser preenchida, corretamente, com:

- (A) em cujo
- (B) aonde
- (C) em que
- (D) que
- (E) ao qual

Leia o texto para responder às questões de números **02 a 08**.

As cotas raciais deram certo porque seus beneficiados são, sim, competentes. Merecem, sim, frequentar uma universidade pública e de qualidade. No vestibular, que é o princípio de tudo, os cotistas estão só um pouco atrás. Segundo dados do Sistema de Seleção Unificada, a nota de corte para os candidatos convencionais a vagas de medicina nas federais foi de 787,56 pontos. Para os cotistas, foi de 761,67 pontos. A diferença entre eles, portanto, ficou próxima de 3%. *IstoÉ* entrevistou educadores e todos disseram que essa distância é mais do que razoável. Na verdade, é quase nada. Se em uma disciplina tão concorrida quanto medicina um coeficiente de apenas 3% separa os privilegiados, que estudaram em colégios privados, dos negros e pobres, que frequentaram escolas públicas, então é justo supor que a diferença mínima pode, perfeitamente, ser igualada ou superada no decorrer dos cursos. Depende só da disposição do aluno. Na Universidade Federal do Rio de Janeiro (UFRJ), uma das mais conceituadas do País, os resultados do último vestibular surpreenderam. “A maior diferença entre as notas de ingresso de cotistas e não cotistas foi observada no curso de economia”, diz Ângela Rocha, pró-reitora da UFRJ. “Mesmo assim, essa distância foi de 11%, o que, estatisticamente, não é significativo”.

(www.istoec.com.br)

02. As informações iniciais do texto permitem inferir que pessoas contrárias ao sistema de cotas nas universidades públicas acreditam que

- (A) os cursos menos concorridos podem ser extintos por falta de candidatos.
- (B) os alunos beneficiados têm pouca qualificação para frequentar os cursos.
- (C) os resultados dos cotistas podem ser superiores aos dos demais estudantes.
- (D) os cursos, em geral, são beneficiados com alunos de perfis diferenciados.
- (E) o desempenho dos alunos beneficiados é similar ao de outros estudantes.

03. De acordo com o autor, o desempenho dos estudantes cotistas

- (A) ratifica a ideia de que as cotas lograram êxito no sistema educacional brasileiro.
- (B) reforça a ideia de que os cursos mais concorridos são difíceis de acompanhar.
- (C) sugere que a avaliação atual é menos democrática e mais difícil que no passado.
- (D) revela a necessidade de que seja feita uma ampla revisão no sistema de cotas.
- (E) sinaliza diferenças expressivas nas universidades públicas brasileiras.

04. Considerando-se o contexto, na oração – ... que estudaram em colégios **privados** ... –, o termo em destaque opõe-se à ideia de
- (A) confidenciais.
 - (B) coletivos.
 - (C) restritos.
 - (D) governamentais.
 - (E) particulares.

Para responder às questões de números **05** e **06**, considere a passagem – A diferença entre eles, portanto, ficou próxima de 3%.

05. O pronome **eles** tem como referente
- (A) candidatos convencionais e cotistas.
 - (B) beneficiados.
 - (C) dados do Sistema de Seleção Unificada.
 - (D) dados do Sistema de Seleção Unificada e pontos.
 - (E) pontos.
06. A conjunção **portanto** expressa ideia de
- (A) comparação.
 - (B) explicação.
 - (C) adição.
 - (D) condição.
 - (E) conclusão.
07. Assinale a alternativa em que a vírgula foi empregada para separar oração introduzida por pronome relativo, a exemplo do que ocorre em: ...um coeficiente de apenas 3% separa os privilegiados, que estudaram em colégios privados...
- (A) Ela estava pensando em que lugar estaria, que dia seria, que pessoas eram aquelas ao seu redor.
 - (B) Ficou encantada com a história, acabara de ler o livro, que já tinha sido traduzido para o inglês.
 - (C) Ele observou o local, sabia, com certeza, que ali já estivera em outra ocasião, mas quando?
 - (D) Era possível, àquela altura da vida, que todos os seus maiores desejos se realizassem enfim.
 - (E) Estou vendo essa tempestade se formar, entre, que aqui estaremos bem mais protegidos dela.

08. Os dados do Sistema de Seleção Unificada comprovam que a diferença de percentual entre os candidatos à medicina egressos tanto de escolas particulares quanto de escolas públicas foi quase _____, pois eles tiveram desempenho _____.

Em conformidade com a norma-padrão da língua portuguesa, as lacunas devem ser preenchidas, respectivamente, com:

- (A) nula ... bastantes semelhantes
- (B) nulo ... bastante semelhante
- (C) nula ... bastante semelhante
- (D) nula ... bastante semelhantes
- (E) nulo ... bastante semelhantes

Leia o texto para responder às questões de números **09** a **16**.

Um pé de milho

Aconteceu que no meu quintal, em um monte de terra trazido pelo jardineiro, nasceu alguma coisa que podia ser um pé de capim – mas descobri que era um pé de milho. Transplantei-o para o exíguo canteiro na frente da casa. Secaram as pequenas folhas, pensei que fosse morrer. Mas ele reagiu. Quando estava do tamanho de um palmo, veio um amigo e declarou desdenhosamente que na verdade aquilo era capim. Quando estava com dois palmos veio outro amigo e afirmou que era cana.

Sou um ignorante, um pobre homem da cidade. Mas eu tinha razão. Ele cresceu, está com dois metros, lança as suas folhas além do muro – e é um esplêndido pé de milho. Já viu o leitor um pé de milho? Eu nunca tinha visto. Tinha visto centenas de milharais – mas é diferente. Um pé de milho sozinho, em um canteiro, espremido, junto do portão, numa esquina de rua – não é um número numa lavoura, é um ser vivo e independente. Suas raízes roxas se agarram ao chão e suas folhas longas e verdes nunca estão imóveis.

Anteontem aconteceu o que era inevitável, mas que nos encantou como se fosse inesperado: meu pé de milho pendoo. Há muitas flores belas no mundo, e a flor do meu pé de milho não será a mais linda. Mas aquele pendão firme, vertical, beijado pelo vento do mar, veio enriquecer nosso canteirinho vulgar com uma força e uma alegria que fazem bem. É alguma coisa de vivo que se afirma com ímpeto e certeza. Meu pé de milho é um belo gesto da terra. E eu não sou mais um mediocre homem que vive atrás de uma chata máquina de escrever: sou um rico lavrador da Rua Júlio de Castilhos.

(Rubem Braga. *200 crônicas escolhidas*, 2001. Adaptado)

09. Para o narrador, o surgimento de um pé de milho em seu quintal
- (A) obrigou-o a acabar com o jardim.
 - (B) era interessante, mas não dava orgulho.
 - (C) criou desavenças entre ele e seus amigos.
 - (D) interessou mais ao jardineiro que a ele.
 - (E) representou algo inusitado que o cativou.

10. Na oração do primeiro parágrafo – Transplantei-o para o **exíguo** canteiro na frente da casa. –, o termo em destaque significa
- (A) contíguo.
 - (B) adequado.
 - (C) primoroso.
 - (D) pequeno.
 - (E) notável.
11. Assinale a alternativa em que há relação de causa e consequência entre as informações.
- (A) Suas raízes roxas se agarram ao chão e suas folhas longas e verdes nunca estão imóveis. (2º §)
 - (B) Transplantei-o para o exíguo canteiro na frente da casa. Secaram as pequenas folhas... (1º §)
 - (C) Tinha visto centenas de milharais – mas é diferente. (2º §)
 - (D) Quando estava com dois palmos veio outro amigo e afirmou que era cana. (1º §)
 - (E) ... podia ser um pé de capim – mas descobri que era um pé de milho. (1º §)
12. Assinale a alternativa em que, nas duas passagens, há termos empregados em sentido figurado.
- (A) ... beijado pelo vento do mar... (3º §) / Meu pé de milho é um belo gesto da terra. (3º §)
 - (B) Mas ele reagiu. (1º §) / ... na verdade aquilo era capim. (1º §)
 - (C) Secaram as pequenas folhas... (1º §) / Sou um ignorante... (2º §)
 - (D) Ele cresceu, está com dois metros... (2º §) / Tinha visto centenas de milharais... (2º §)
 - (E) ... lança as suas folhas além do muro... (2º §) / Há muitas flores belas no mundo... (3º §)
13. Na passagem do terceiro parágrafo – ... veio enriquecer nosso canteirinho vulgar... –, o substantivo, empregado no diminutivo, contribui para expressar a ideia de
- (A) exatidão.
 - (B) desprezo.
 - (C) simplicidade.
 - (D) soberba.
 - (E) abundância.
14. Assinale a alternativa em que a reescrita do texto altera o sentido original.
- (A) Secaram as pequenas folhas, pensei que fosse morrer. (1º §)
= Secaram as folhas pequenas, pensei que fosse morrer.
 - (B) É alguma coisa de vivo que se afirma com ímpeto e certeza. (3º §)
= É algo de vivo que, com ímpeto e certeza, afirma-se.
 - (C) ... em um monte de terra trazido pelo jardineiro... (1º §)
= ... em um monte de terra que o jardineiro trouxe.
 - (D) Anteontem aconteceu o que era inevitável... (3º §)
= Aquilo que era inevitável anteontem aconteceu...
 - (E) Sou um ignorante, um pobre homem da cidade. (2º §)
= Sou um ignorante, um homem pobre da cidade.
15. Pela descrição feita no texto, é correto afirmar que o pé de milho
- (A) manteve-se no jardim do narrador, que o desprezava, sendo incapaz de se render ao seu esplendor e à beleza dos seus pendões.
 - (B) ganhou uma condição diferenciada dos pés de milho de uma lavoura, tanto que transformou significativamente a vida do narrador.
 - (C) constitui uma parte expropriada de uma lavoura, razão pela qual o narrador, ainda que o estime, sente-se mal por não poder devolvê-lo.
 - (D) passou a ter um lugar menos atrativo para crescer e, destituído de uma lavoura, tornou-se um número isolado em um jardim sem beleza.
 - (E) continua a ser um simples número da lavoura, sem crédito na sua localização, tanto que fora confundido com pé de capim e pé de cana.
16. Assinale a alternativa correta quanto à pontuação, de acordo com a norma-padrão da língua portuguesa.
- (A) Um amigo declarou: que meu pé de milho era capim. Outro amigo, que era cana. O leitor já viu um pé de milho?
 - (B) Um amigo declarou, que meu pé de milho, era capim. Outro amigo que era cana. O leitor, já viu um pé de milho?
 - (C) Um amigo declarou: meu pé de milho era capim. Outro amigo: que era cana. Já viu leitor um pé de milho?
 - (D) Um amigo, declarou que meu pé de milho era capim. Outro amigo que era cana. Já viu leitor, um pé de milho?
 - (E) Um amigo declarou que meu pé de milho era capim. Outro amigo, que era cana. Já viu, leitor, um pé de milho?

Leia os quadrinhos para responder às questões de números 17 a 19.

palestra sobre os novos tempos



(Folha de S.Paulo, 08.10.2014)

17. Considerando as falas da personagem no primeiro e no terceiro quadrinhos, conclui-se que para ela
- (A) a felicidade é o caminho para a verdade.
 - (B) a verdade é a forma real de se chegar à felicidade.
 - (C) a verdade é o caminho mais fácil para a felicidade.
 - (D) a busca pela verdade necessita de proteção.
 - (E) a impossibilidade de ser feliz impede a alienação.
18. A fala da personagem oculta, no segundo quadrinho, está formulada, em um enunciado completo, segundo a norma-padrão da língua portuguesa, em:
- (A) É melhor seguir nos caminhos da verdade, distanciando-se pela alienação.
 - (B) É melhor seguir pelos caminhos da verdade, distanciando-se da alienação.
 - (C) É melhor seguir com os caminhos da verdade, distanciando-se à alienação.
 - (D) É melhor seguir os caminhos da verdade, distanciando-se sob a alienação.
 - (E) É melhor seguir aos caminhos da verdade, distanciando-se sobre a alienação.
19. Um enunciado possível em substituição à fala do terceiro quadrinho, em conformidade com a norma-padrão da língua portuguesa, é:
- (A) Se você ir pelos caminhos da verdade, leve um capacete.
 - (B) Caso você vá pelos caminhos da verdade, lembre-se de levar um capacete.
 - (C) Se você se mantiver nos caminhos da verdade, leve um capacete.
 - (D) Caso você se mantém nos caminhos da verdade, lembre de levar um capacete.
 - (E) Ainda que você se mantém nos caminhos da verdade, leva um capacete.
20. Apesar das previsões _____ os próximos meses deverão ter chuvas dentro da média em São Paulo, isso não garante _____ o sistema Cantareira volte a ter níveis confortáveis de reserva de água até abril, segundo especialistas. Ainda que chova bem acima do esperado, a superfície seca e exposta do Cantareira terá maior dificuldade _____ reter a água.
- (www.folha.uol.com.br.08.10.2014. Adaptado)
- De acordo com a norma-padrão da língua portuguesa, as lacunas do texto devem ser preenchidas, respectivamente, com:
- (A) de que ... que ... em
 - (B) em que ... de que ... a
 - (C) de que ... de que ... de
 - (D) que ... em que ... para
 - (E) que ... de que ... para

Leia o texto para responder às questões de números 21 a 23.

Em meio a insatisfações com a situação econômica, o principal alvo do movimento de milhares de manifestantes na China é a garantia de plenas liberdades, em observação aos princípios que presidiram a passagem de Hong Kong para a esfera desse país, em 1997.

O acordo de transição criou a fórmula “um país, dois sistemas”. A submissão da economia ao Estado e a centralização da ditadura chinesa não seriam implantadas na região administrativa especial da ex-colônia por 50 anos, período em que se manteriam o arcabouço democrático e a livre-iniciativa.

O compromisso foi quebrado por recente decisão que afeta as eleições marcadas para 2017: o governo central arrogou-se o direito de aprovar previamente os candidatos que poderão participar do pleito.

A medida foi vista como um indício de que a China estaria disposta a intervir e ampliar seu controle sobre Hong Kong, uma importante praça financeira internacional.

(Folha de S.Paulo, 01.10.2014. Adaptado)

21. De acordo com o texto, quando Hong Kong passou para a esfera da China, compactuou-se que, durante 50 anos,

- (A) a centralização da ditadura seria incorporada à administração da cidade.
- (B) a livre-iniciativa seria substituída por outro sistema econômico.
- (C) a fórmula “um país, dois sistemas” deixaria de existir na cidade e no país.
- (D) a democracia e a livre-iniciativa seriam prerrogativas garantidas à cidade.
- (E) a estrutura democrática da cidade seria disseminada a toda a nação.

22. _____ quebra do compromisso entre Hong Kong e China, que atinge _____ eleições marcadas para 2017, seguiram-se manifestações, pois, com o controle da cidade, haveria ameaça _____ garantia de plenas liberdades.

As lacunas devem ser preenchidas, correta e respectivamente, com:

- (A) A ... as ... à
- (B) À ... às ... à
- (C) A ... às ... a
- (D) A ... às ... à
- (E) À ... as ... à

23. Assinale a alternativa correta quanto à colocação pronominal, de acordo com a norma-padrão da língua portuguesa.

- (A) Se criou na China, com o acordo de transição, a fórmula “um país, dois sistemas”.
- (B) Por um período de 50 anos, manteriam-se o arcabouço democrático e a livre-iniciativa.
- (C) O governo chinês recentemente se arrogou o direito de aprovação prévia dos candidatos.
- (D) Os chineses têm questionado-se se o país pretende intervir e ampliar seu controle sobre Hong Kong.
- (E) Não respeitaram-se os princípios que presidiram a passagem de Hong Kong à China.

24. Pato manco. O termo da política norte-americana é usado para classificar executivos eleitos cuja aprovação popular e minoria no Legislativo os _____ incapacitados de alterar significativamente a vida dos governados. Se tudo correr como _____ as pesquisas de intenção de voto, as eleições de novembro nos EUA, com renovação completa da Casa dos Representantes e um terço do Senado, _____ o presidente Barack Obama refém de um Congresso dominado pela oposição.

(www.cartacapital.com.br, 06.10.2014. Adaptado)

Em conformidade com a norma-padrão da língua portuguesa, as lacunas do texto devem ser preenchidas, respectivamente, com:

- (A) deixam ... indica ... deixarão
- (B) deixa ... indica ... deixará
- (C) deixam ... indicam ... deixará
- (D) deixam ... indicam ... deixarão
- (E) deixa ... indicam ... deixarão

CONHECIMENTOS GERAIS

ATUALIDADES

25. Em Fortaleza (CE), a reunião dos Brics, na semana de 14 a 18 de julho (2014), e que contou também com a presença de dezenas de presidentes da América do Sul e Caribe, ocorreu num momento de mudanças no mundo com a decadência relativa dos Estados Unidos e o reaparecimento da multilateralidade geográfica mundial com um novo deslocamento do centro dinâmico da América (EUA) para a Ásia (China).

(<http://www.jb.com.br/20.07.2014>. Adaptado)

Uma das principais decisões tomadas pelo Brics foi a

- (A) constituição de um grupo formado pelos ministros da fazenda dos cinco países membros com o intuito de estabelecer políticas comuns para ampliar o comércio entre os membros.
- (B) criação de um banco de desenvolvimento com o propósito de mobilizar recursos para projetos de desenvolvimento nos países membros e em outras economias emergentes.
- (C) formulação de uma lista de reivindicações dirigidas ao FMI e ao Banco Mundial para que reduzam os juros cobrados pelos empréstimos destinados aos países pobres da África.
- (D) assinatura de um documento comprometendo os membros a reduzir os problemas ambientais que porventura enfrentem, tais como desmatamentos, poluição atmosférica e desertificação.
- (E) instalação de um conselho de segurança, semelhante ao já existente na ONU, com o objetivo de intervir diplomaticamente em áreas de conflito que representem perigos geopolíticos.

26. O presidente dos Estados Unidos, Barack Obama, anunciou nesta quarta (10/09) que seu país irá liderar uma grande coalizão internacional que tem como objetivo “destruir o Estado Islâmico (EI)”.

(<http://g1.globo.com/mundo/noticia/2014/09>)

Sobre o Estado Islâmico, é correto afirmar:

- (A) o grupo formador surgiu no Iraque associado à Al Qaeda e se fortaleceu com a união a um grupo radical jihadista sírio.
 - (B) seu objetivo é criar um Estado Palestino independente e que ocupe a área atualmente ocupada por Israel.
 - (C) seus membros praticam o islamismo fundamentalista que não aceita os ensinamentos contidos no Alcorão.
 - (D) pretende atuar em vários países do mundo ocidental e se caracteriza por atos terroristas de grandes proporções.
 - (E) assume posições políticas socialistas e pretende expandir seu poderio por terras do Afeganistão, do Irã e do Iraque.
27. O governo brasileiro considerou como um feito “histórico” que o país tenha saído do **mapa da fome**, de acordo com relatório apresentado em Roma nesta terça-feira (16/09).

(<http://exame.abril.com.br>)

O mapa da fome é um relatório produzido com o objetivo de fazer um balanço da situação de fome e subnutrição no mundo. O relatório é feito por órgãos ligados

- (A) à OCDE (Organização para Cooperação e Desenvolvimento).
- (B) à Otan (Organização do Tratado do Atlântico Norte).
- (C) ao Banco Mundial.
- (D) ao FMI (Fundo Monetário Internacional).
- (E) à ONU (Organização das Nações Unidas).

28. Deu negativo para ebola o primeiro teste laboratorial feito no paciente com suspeita da doença. "O estado de saúde dele é bom, não apresenta febre e está mantido em isolamento total. Se o caso também for descartado como ebola no segundo exame, o paciente sairá do isolamento e o sistema de vigilância dos contactantes será desmontado".

(<http://www1.folha.uol.com.br/cotidiano/2014/10>)

O Instituto Nacional de Infectologia, escolhido pelo Ministério da Saúde como referência para receber casos suspeitos de infecção pelo vírus do ebola, está localizado no estado

- (A) de São Paulo.
- (B) do Paraná.
- (C) do Rio Grande do Sul.
- (D) do Rio de Janeiro.
- (E) de Minas Gerais.

MATEMÁTICA

29. Certa empresa produz diariamente quantidades iguais do produto P. Se essa empresa usar três medidas iguais do componente A em cada unidade do produto final P, serão necessárias 480 dessas medidas para suprir a produção de P durante 2 dias. Se passar a usar 2,5 medidas de A em cada unidade de P, o número de medidas de A necessário para suprir a produção de P, durante 5 dias, será igual a

- (A) 1050.
- (B) 1000.
- (C) 1220.
- (D) 980.
- (E) 1140.

30. Um grupo de pessoas participou da fase final de um concurso, sendo que, nesse grupo, o número de mulheres era igual a $\frac{3}{5}$ do número de homens. Sabe-se

que, concluída a fase final, apenas $\frac{1}{5}$ do número de

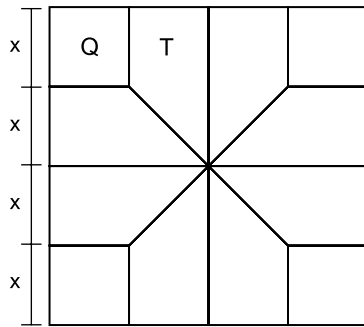
homens e $\frac{1}{3}$ do número mulheres foram aprovados,

num total de 8 pessoas.

O número de mulheres no grupo que iniciou a participação na fase final desse concurso era igual a

- (A) 18.
- (B) 9.
- (C) 12.
- (D) 21.
- (E) 15.

31. Para efeito decorativo, um arquiteto dividiu o piso de um salão quadrado em 8 regiões com o formato de trapézios retângulos congruentes (T), e 4 regiões quadradas congruentes (Q), conforme mostra a figura:

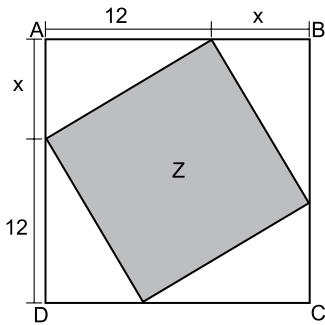


Se a área de cada região com a forma de trapézio retângulo é igual a 24 m^2 , então a área total desse piso é, em m^2 , igual a

- (A) 324.
 (B) 400.
 (C) 225.
 (D) 256.
 (E) 196.
32. Norberto tomou dois empréstimos, que foram pagos após 2 meses com o acréscimo de juro simples. No primeiro, de certo valor, a taxa de juros foi de 1% ao mês. No segundo, de valor R\$ 1.600,00 maior que o do primeiro, a taxa de juros foi de 1,5% ao mês. Sabendo que a soma dos juros pagos nos dois empréstimos foi igual a R\$ 128,00, é correto afirmar que a soma dos valores desses dois empréstimos é igual a

- (A) R\$ 4.800,00.
 (B) R\$ 4.000,00.
 (C) R\$ 3.200,00.
 (D) R\$ 4.600,00.
 (E) R\$ 3.600,00.

33. Em uma folha quadrada ABCD, foi desenhado um quadrado Z, de área igual a 169 cm^2 , conforme mostra a figura:



Nessas condições, é correto afirmar que o perímetro da folha ABCD, em centímetros, é igual a

- (A) 56.
(B) 72.
(C) 60.
(D) 64.
(E) 68.
34. Considere um reservatório com o formato de um paralelepípedo reto retângulo, com 2 m de comprimento e 1,5 m de largura, inicialmente vazio. A válvula de entrada de água no reservatório foi aberta por certo período, e, assim, a altura do nível da água no reservatório atingiu 50 cm, preenchendo 40% da sua capacidade total. Desse modo, é correto afirmar que a medida da altura desse reservatório, em metros, é igual a
- (A) 1,75.
(B) 1,25.
(C) 1,65.
(D) 1,50.
(E) 1,35.

35. A Câmara dos Deputados aprovou ontem a Medida Provisória nº 647, que permite ao governo elevar para até 27,5% o limite de etanol anidro misturado à gasolina vendida nos postos de combustível. Hoje, esse teto é de 25%.

(O Estado de S.Paulo, 07.08.2014)

Suponha que dois tanques, A e B, contenham quantidades iguais, em litros, de um combustível formado pela mistura de gasolina e de álcool anidro, sendo 25% o teor de álcool na mistura do tanque A e 27,5%, o teor de álcool na mistura do tanque B. Nessas condições, é correto afirmar que a quantidade de álcool no tanque B supera a quantidade de álcool no tanque A em

- (A) 7,5%
 - (B) 8%
 - (C) 10%
 - (D) 5%
 - (E) 2,5%
36. Um feirante compra mangas ao preço de R\$ 0,80 para cada duas unidades. Certo dia, ele vendeu 120 mangas ao preço de R\$ 6,60 para cada 6 unidades e n mangas ao preço de R\$ 4,50 para cada 5 unidades. Se, nesse dia, o lucro obtido com a venda das mangas foi igual a R\$ 224,00, então o número total de mangas que o feirante vendeu, nesse dia, foi
- (A) 480.
 - (B) 400.
 - (C) 420.
 - (D) 320.
 - (E) 280.

37. Certa competição tem 6 etapas eliminatórias. Sabe-se que a média aritmética do número de pessoas que participaram da primeira e da segunda etapa é igual ao quádruplo da média aritmética do número de pessoas que participaram de cada uma das quatro etapas seguintes. Desse modo, a razão entre o número de pessoas que participaram da primeira e da segunda etapa e o número total de pessoas que participaram dessa competição é de

(A) $\frac{3}{4}$

(B) $\frac{1}{2}$

(C) $\frac{1}{3}$

(D) $\frac{1}{4}$

(E) $\frac{2}{3}$

38. Observe a sequência de figuras feitas em uma malha quadriculada, sendo cada figura composta por quadradinhos brancos e pretos.




Figura 1

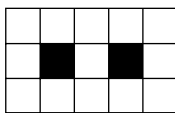


Figura 2

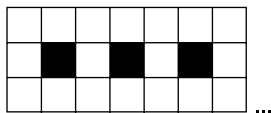


Figura 3

...

De acordo com a lei de formação dessa sequência, o número de quadradinhos brancos na figura 18 será igual a

(A) 113.

(B) 103.

(C) 108.

(D) 93.

(E) 98.

INFORMÁTICA

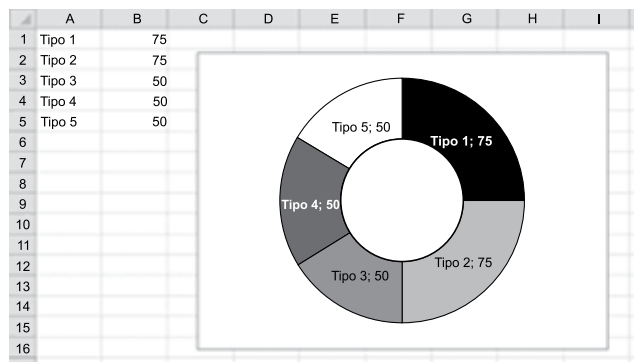
39. No Microsoft Windows 7, em sua configuração padrão, ao se arrastar um arquivo ou pasta, o que acontece depende do destino para onde o objeto está sendo arrastado. Ao se arrastar um arquivo para uma pasta em uma unidade diferente, sem utilizar o teclado, ele

- (A) será copiado para a pasta de destino.
- (B) será apagado da pasta de origem e terá um atalho criado pasta de destino.
- (C) terá um atalho criado pasta de destino, somente.
- (D) será movido para a pasta de destino.
- (E) será apagado da pasta de origem, somente.

40. Um arquivo gravado na área do Microsoft Windows 7, em sua configuração original, que é sempre exibida na tela quando você liga o computador e inicia o Windows, é encontrado

- (A) na Área de Trabalho.
- (B) nas Bibliotecas.
- (C) nos Documentos.
- (D) na Caixa de Entrada.
- (E) em Downloads.

41. Tem-se uma planilha no Microsoft Excel 2010, em sua configuração padrão, e um gráfico de rosca criado a partir do conteúdo das células A1 até B5.



A soma das fatias do “Tipo 1” e “Tipo 2”, em relação ao total das fatias, representa

- (A) 100%
- (B) 25%
- (C) 150%
- (D) 50%
- (E) 75%

42. Tem-se a planilha a seguir, criada no Microsoft Excel 2010, em sua configuração original.

	A	B	C
1	Processo	Origem	Mês Abertura
2		1 São Paulo	julho-2014
3		2 Santos	junho-2014
4		3 Campinas	setembro-2014
5		4 Jundiaí	maio-2014
6		5 Bertioga	janeiro-2014
7		6 Araraquara	fevereiro-2014
8		7 Ribeirão Preto	abril-2013
9			

Um usuário selecionou todo conteúdo entre as células A1 e C8 e pressionou Ctrl+C. Assinale a alternativa que contém o nome da opção utilizada na janela *Colar Especial* para produzir o resultado a seguir.

13							
14	Processo	1	2	3	4	5	6
15	Origem	São Paulo	Santos	Campinas	Jundiaí	Bertioga	Araraquara
16	Mês Abertura	julho-2014	junho-2014	setembro-2014	maio-2014	janeiro-2014	fevereiro-2014
17							

- (A) Fórmulas e formatos de números.
- (B) Multiplicar.
- (C) Transpor.
- (D) Validação.
- (E) Formatos.

43. Assinale a alternativa que apresenta o resultado correto após ordenar de forma crescente a coluna A, a partir da planilha criada no Microsoft Excel 2010, em sua configuração original, demonstrada a seguir:

	A	B
1	a	
2	b	
3	1	
4	2	
5	4	
6	c	
7	f	
8	e	
9	3	
10	d	
11		

- (A) a, b, c, d, e, f, 1, 2, 3, 4
 (B) a, b, c, d, 1, 2, 3, 4, e, f
 (C) a, 1, b, 2, c, 3, d, 4, e, f
 (D) 1, a, 2, b, 3, c, 4, d, e, f
 (E) 1, 2, 3, 4, a, b, c, d, e, f

44. Uma planilha criada no Microsoft Excel 2010, em sua configuração padrão, está preenchida como se apresenta a seguir:

	A	B	C	D	E
1	Data Abertura	Número do Processo	Origem	Valor dívida	
2	01/03/2014		1 São Paulo	1.000	
3	13/03/2014		2 Campinas	2.000	
4	12/01/2014		3 Santos	3.000	
5	15/04/2014		4 São Paulo	1.500	
6	28/01/2014		5 Santos	2.500	
7	05/02/2014		6 Santos	500	
8				10.500	
9					
10					

A célula D8 contém a fórmula =SOMA(D2:D7)

Se o usuário inserir uma linha, entre as linhas 6 e 7, e preencher com o valor 1.000 na coluna D, tal qual se apresenta a seguir, assinale a alternativa que indica o que acontece com a soma final, automaticamente movimentada pelo Excel para a célula D9.

	A	B	C	D	E
1	Data Abertura	Número do Processo	Origem	Valor dívida	
2	01/03/2014		1 São Paulo	1.000	
3	13/03/2014		2 Campinas	2.000	
4	12/01/2014		3 Santos	3.000	
5	15/04/2014		4 São Paulo	1.500	
6	28/01/2014		5 Santos	2.500	
7				1.000	
8	05/02/2014		6 Santos	500	
9					
10					
11					


- (A) A soma passa a ser de 11.500. Ao se inserir a linha, a fórmula é automaticamente ajustada para =SOMA(D2:D8)
 (B) A soma retorna a um erro. Ao se inserir a linha, a fórmula precisa ser refeita.
 (C) A soma passa a ser de 10.000. A nova linha inserida e todas as linhas abaixo dela não são consideradas na fórmula de soma.
 (D) A soma final mantém-se com 10.500. A nova linha inserida não é considerada na fórmula de soma.
 (E) A soma passa a ser de 11.000. A fórmula considera que a última linha da seleção original de dados é a linha 7, e assim despreza a linha 8.

45. Um documento com aparência profissional nunca termina uma página somente com uma linha de um novo parágrafo ou inicia uma página somente com a última linha da página anterior. A última linha de um parágrafo, sozinha no topo de uma página, é conhecida como _____. A primeira linha de um parágrafo, sozinha na parte inferior de uma página, é conhecida como _____.

Assinale a alternativa que preenche, correta e respectivamente, as lacunas do texto do enunciado, relativo ao Microsoft Word 2010, em sua configuração original.

- (A) espelhada ... isolada
- (B) viúva ... orfã
- (C) recuada ... espaçada
- (D) retrato ... paisagem
- (E) rodapé ... cabeçalho

46. Um documento foi criado no Microsoft Word 2010, em sua configuração padrão, conforme imagem a seguir.



Se o usuário marcar todo esse conteúdo e clicar na guia *Inserir*, botão *Tabela*, opção *Converter texto em tabela*, aceitando as opções padrão oferecidas na caixa *Converter texto para tabela*, o resultado, sem as marcas de formatação, será:

- (A)

2013	2014	
Valor médio		100
Valor máximo	210	
Valor mínimo		160
- (B)

2013		2014
Valor médio		100
Valor máximo	210	
Valor mínimo		160
- (C)

	2013	2014
Valor médio		100
Valor máximo	210	
Valor mínimo		160
- (D)

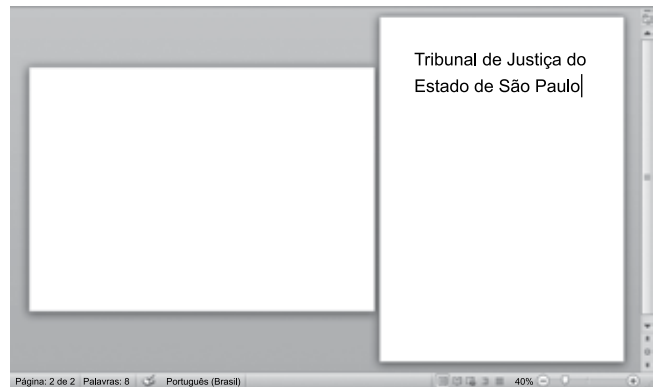
	2013	2014
Valor médio	100	
Valor máximo	210	
Valor mínimo		160
- (E)

	2013	2014
Valor médio	100	
Valor máximo	210	
Valor mínimo		160

47. No Microsoft Word 2010, em sua configuração padrão, as configurações de parágrafo e estilo são encontradas na guia

- (A) Inserir.
- (B) Layout da Página.
- (C) Página Inicial.
- (D) Exibição.
- (E) Revisão.

48. Assinale a alternativa correta, sobre o documento a seguir, criado no Microsoft Word 2010, em sua configuração original, com o cursor posicionado na segunda página.



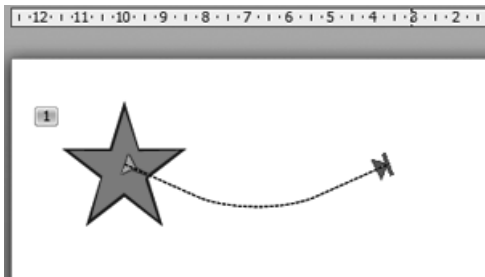
- (A) O documento contém 1 página e está formatado com 2 colunas.
- (B) A primeira página está sendo exibida em modo de impressão e a segunda página, em modo de layout web.
- (C) O documento contém 2 páginas, sendo a primeira em orientação paisagem e a segunda, em orientação retrato.
- (D) O documento contém 1 página, sendo que o primeiro quadro é dedicado a anotações do autor do texto.
- (E) O documento está 40% preenchido.

49. É o slide principal em uma hierarquia de slides que armazena informações sobre o tema e os layouts dos slides de uma apresentação, incluindo o plano de fundo, a cor, as fontes, os efeitos, os tamanhos dos espaços reservados e o posicionamento. Cada apresentação contém, pelo menos, um slide desse tipo. Seu principal benefício é poder fazer alterações de estilo universal em todos os slides de uma apresentação, inclusive naqueles adicionados posteriormente a ele.

O texto do enunciado, sobre o Microsoft PowerPoint 2010, em sua configuração padrão, refere-se a

- (A) super slide.
- (B) slide mestre.
- (C) slide oculto.
- (D) slide conceito.
- (E) slide público.

50. A apresentação a seguir, criada no Microsoft PowerPoint 2010, em sua configuração original, apresenta uma animação com efeito do tipo

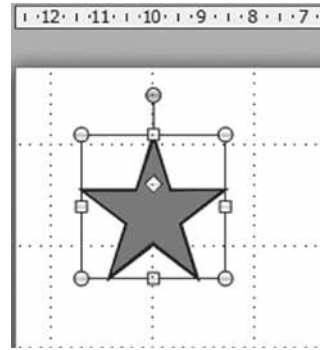


- (A) mescla.
- (B) saída.
- (C) entrada.
- (D) ênfase.
- (E) trajetória de animação.

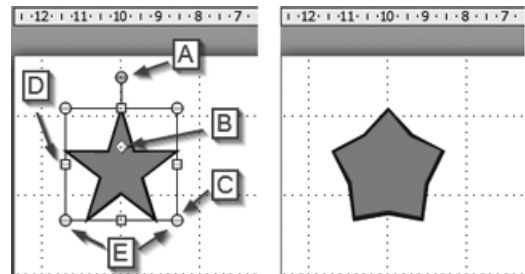
51. Durante uma apresentação com o Microsoft PowerPoint 2010, em sua configuração padrão, em português, o usuário deseja ocultar o conteúdo que está sendo exibido para uma pausa, deixando a tela totalmente em preto, mas não quer finalizar a apresentação. Para isso, ele deve pressionar a seguinte tecla:

- (A) E
- (B) Enter
- (C) Esc
- (D) Backspace
- (E) End

52. Um usuário criou uma *AutoForma* de estrela em um slide no Microsoft PowerPoint 2010, em sua configuração padrão, como se segue:



Considerando os pontos de marcação destacados na *AutoForma*, assinale a alternativa que apresenta qual foi o ponto selecionado pelo usuário para alterar o formato da *AutoForma* para ficar como se apresenta a seguir:



- (A) E
- (B) A
- (C) D
- (D) B
- (E) C

53. Durante o preparo de uma mensagem de correio eletrônico, um usuário preencheu o campo *Para* com um email válido e existente, anexou um documento do Microsoft Word existente em seu computador e clicou em *Enviar*. A mensagem foi transferida com sucesso. Porém, algum tempo depois, o usuário remetente apagou esse arquivo Word de seu computador.

Ao realizar essa ação,

- (A) não aconteceu nada nas caixas postais do remetente e do destinatário.
- (B) não aconteceu nada na mensagem do destinatário, mas a mensagem do próprio remetente, que estava na *Caixa de Saída*, foi apagada, de forma automática.
- (C) a mensagem, previamente transmitida, foi mantida na caixa postal do destinatário, porém sem o documento Word, que foi apagado de forma automática.
- (D) não aconteceu nada na mensagem do destinatário e do remetente, mas o documento Word que estava anexado dentro da mensagem do próprio remetente foi apagado, de forma automática.
- (E) a mensagem, previamente transmitida, também foi apagada da caixa postal do destinatário, de forma automática.

54. “São pequenos arquivos que alguns sites colocam no disco rígido do seu computador quando você os visita pela primeira vez.”

O texto refere-se a

- (A) favoritos.
- (B) cookie.
- (C) URL.
- (D) http.
- (E) link persistente.

RACIOCÍNIO LÓGICO

55. Observe as regularidades da sequência a seguir: (10; 11; 20; 21; 22; 30; 31; 32; 33; 40; . . . ; 98; 99).

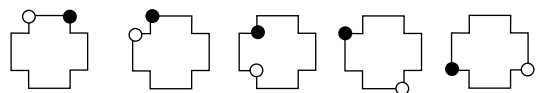
Pode-se afirmar corretamente que a soma dos algarismos que compõem o 38º elemento é

- (A) 7.
- (B) 10.
- (C) 9.
- (D) 6.
- (E) 8.

56. Considere a afirmação: “Se passei no exame, então estudei muito e não fiquei nervoso”. Do ponto de vista lógico, uma afirmação equivalente a essa é:

- (A) Se estudei muito, então não fiquei nervoso e passei no exame.
- (B) Se passei no exame, então não estudei muito e fiquei nervoso.
- (C) Passei no exame porque quem estuda muito só pode passar.
- (D) Se não fiquei nervoso, então passei no exame ou estudei muito.
- (E) Se fiquei nervoso ou não estudei muito, então não passei no exame.

57. Observe os cinco primeiros elementos da sequência figuril ilimitada a seguir:

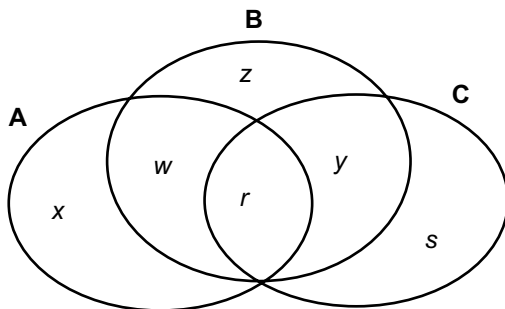


Observando a regularidade apresentada pelos pontos em destaque em cada figura, conclui-se que a 10ª figura é:

- (A)
- (B)
- (C)
- (D)
- (E)

58. Considere a afirmação: “Nem todos os técnicos gostam de informática e todos os chefes de seção sabem que isso acontece”. Uma afirmação que corresponde à negação lógica da afirmação anterior é:
- (A) Todos os técnicos gostam de informática e existe algum chefe de seção que não sabe que isso acontece.
- (B) Nenhum técnico gosta de informática e nenhum chefe de seção sabe que isso acontece.
- (C) Pelo menos um técnico gosta de informática e algum chefe de seção não sabe que isso acontece.
- (D) Nenhum técnico gosta de informática ou nenhum chefe de seção sabe que isso acontece.
- (E) Todos os técnicos gostam de informática ou existe algum chefe de seção que não sabe que isso acontece.

59. O diagrama mostra a distribuição de pessoas, que possuem uma ou mais das habilidades A, B, C. As letras minúsculas representam o número de pessoas que possuem determinada ou determinadas habilidades. Por exemplo: a letra w , que está na intersecção dos grupos de habilidades A e B, representa a quantidade de pessoas que possuem ambas as habilidades citadas.



Foi realizada uma enquete com todas essas pessoas, e elas deveriam responder SIM ou NÃO a essa única pergunta: “Você possui as habilidades A e C? Todas as pessoas responderam de forma verdadeira, e o número de pessoas que respondeu SIM foi

- (A) r .
- (B) $x + s$.
- (C) zero.
- (D) $x + r + s$.
- (E) $w + r + y$.

60. Considere **verdadeiras** as quatro afirmações seguintes:

- I. Ou Luíza é médica ou Márcia é advogada.
- II. Carlos não é dentista e Luiz é engenheiro.
- III. Se Carlos é dentista, então Márcia não é advogada.
- IV. Luíza não é médica.

A partir dessas afirmações, pode-se concluir corretamente que

- (A) Luiz é engenheiro e Carlos é dentista.
- (B) Márcia é advogada e Luiz é engenheiro.
- (C) nem Luíza é médica nem Luiz é engenheiro.
- (D) Luíza não é médica, mas é dentista.
- (E) Carlos é dentista ou Márcia não é advogada.

61. Considere **falsas** as três afirmações seguintes:

- I. João é encanador e José não é eletricista.
- II. José é eletricista ou Lucas é pedreiro.
- III. Se Robson é servente, então João não é servente.

A partir dessas afirmações, pode-se concluir corretamente que

- (A) se João não é servente, então Lucas não é pedreiro.
- (B) Robson não é servente e José não é eletricista.
- (C) João é eletricista ou Lucas é servente.
- (D) João é servente ou Robson não é servente.
- (E) Lucas não é pedreiro e José é eletricista.

62. Considere **verdadeiras** as afirmações:

- Todos os cães latem.
- Todos os cães possuem quatro patas.
- Os gatos também possuem quatro patas.
- Alguns seres humanos imitam os latidos dos cães.
- Nem todos os cães mordem e alguns gatos arranham.

A partir dessas afirmações, pode-se concluir, corretamente, que

- (A) alguns seres humanos imitam os miados dos gatos.
- (B) os gatos que arranham assustam os cães que não mordem.
- (C) os cães que latem possuem quatro patas.
- (D) ou os gatos arranham ou os gatos miam.
- (E) alguns cães não possuem quatro patas e não latem.

63. Luiz, José e Mauro são amigos e cada um deles pertence a um partido político diferente. Os partidos são: Partidos dos Operários, Partido dos Esforçados e Partido dos Professores. Dois dos amigos são candidatos a vereador e um deles é candidato a prefeito da cidade onde moram. O Partido dos Operários não inscreveu candidato à prefeitura. Mauro mora perto do amigo que pertence ao Partido dos Operários, que é um dos candidatos a vereador. Luiz não é candidato a vereador. Nenhum dos filiados do Partido dos Esforçados quis ser candidato à prefeitura. A partir dessas informações, é possível concluir, corretamente, que
- (A) Luiz pertence ao Partido dos Esforçados.
 - (B) José pertence ao Partido dos Professores.
 - (C) Mauro não é candidato a vereador.
 - (D) José não é candidato a vereador.
 - (E) Luiz pertence ao Partido dos Professores.
64. Na sequência (10; 11; 12; 13; 100; 110; 120; 130; 1000; 1100; 1200; 1300; 10000; ...), a diferença entre o menor número de 7 algarismos e o maior número de 6 algarismos é igual a
- (A) 97 000.
 - (B) 970 000.
 - (C) 87 000.
 - (D) 870 000.
 - (E) 1 130 000.

CONHECIMENTOS EM DIREITO

DIREITO PENAL

65. Com relação aos crimes contra a Administração Pública, assinale a alternativa correta.
- (A) Pratica corrupção passiva o funcionário público que solicita ou recebe vantagem indevida, para si ou para outrem, ainda que fora da função ou antes de assumi-la, mas em razão dela.
 - (B) Pratica concussão o funcionário público que se apropria de dinheiro, valor ou qualquer outro bem móvel, público ou particular, de que tem a posse em razão do cargo.
 - (C) No peculato culposo, a reparação do dano, em qualquer momento do processo e até a sentença recorrível, reduz em um terço a pena imposta.
 - (D) Pratica concussão o funcionário público que exigir, para si ou para outrem, vantagem devida, ainda que fora da função ou antes de assumi-la.
 - (E) Configura-se excesso de exação a exigência de verbas pelo funcionário público que sabe ou deveria saber indevidas.

66. Configura crime de falsidade ideológica:
- (A) omitir, em documento público ou particular, declaração que dele devia constar.
 - (B) atestar ou certificar falsamente fato ou circunstância que habilite alguém a obter cargo público.
 - (C) falsificar, em nível material, em documento particular, declaração que dele devia constar.
 - (D) inserir ou fazer inserir declaração verdadeira com o fim de prejudicar direito ou criar obrigação.
 - (E) falsificar, no todo ou em parte, documento particular ou alterar documento particular verdadeiro.
67. Assinale a alternativa que contém apenas crimes contra a administração da justiça.
- (A) Falsificação de papéis públicos, falsificação de selo e falsificação de sinal público.
 - (B) Advocacia administrativa, advocacia profissional no terceiro setor e posse antecipada de cargo público.
 - (C) Coação no curso do processo, comunicação falsa de crime e falsa perícia.
 - (D) Falsificação de papéis públicos, prevaricação e condescendência criminosa.
 - (E) Advocacia administrativa, violência arbitrária e desobediência.
68. O Código Penal brasileiro, em relação ao crime de denunciação caluniosa, dispõe:
- (A) acusar-se, perante a autoridade, de crime inexistente ou praticado por outrem.
 - (B) inovar artificiosamente, na pendência de processo civil ou administrativo, o estado de lugar.
 - (C) provocar a ação de autoridade, comunicando-lhe a ocorrência de crime ou de contravenção que sabe não se ter verificado.
 - (D) dar causa à instauração de investigação policial, de processo judicial, instauração de investigação administrativa, inquérito civil ou ação de improbidade administrativa contra alguém, imputando-lhe crime de que o sabe inocente.
 - (E) dar, oferecer ou prometer dinheiro ou qualquer outra vantagem a testemunha, perito, contador, tradutor ou intérprete, para fazer afirmação falsa, negar ou calar a verdade em depoimento ou perícia.

69. Assinale a alternativa correta em relação a funcionário público de acordo com o Código Penal.

- (A) A pena será aumentada pela metade se o agente for ocupante de cargo em comissão ou função de direção ou assessoramento de órgão da administração direta, sociedade de economia mista, empresa pública ou fundação instituída pelo poder público.
- (B) Considera-se funcionário público quem, embora transitoriamente, exerce cargo, emprego ou função pública.
- (C) Consideram-se funcionários públicos: vereadores, peritos judiciais, serventuários da justiça, defensor dativo e o auditor da Receita Federal.
- (D) Considera-se funcionário público, para efeitos penais, quem, embora transitoriamente e sempre com remuneração, exerce cargo, emprego ou função pública.
- (E) Equipara-se a funcionário público quem exerce cargo, emprego ou função em entidade paraestatal, e quem trabalha para empresa prestadora de serviço contratada ou conveniada para a execução de atividade típica da Administração Privada.

70. Em relação ao crime de peculato, assinale a alternativa correta.

- (A) Apropriar-se de dinheiro, valor ou qualquer outro bem móvel de que tenha a posse em razão do cargo.
- (B) Exigir o funcionário público tributos que sabe inexigíveis à espécie.
- (C) Retardar o funcionário a prática de ato de ofício, por influência de outrem.
- (D) Solicitar, fora da função, vantagem indevida à espécie.
- (E) Patrocinar o funcionário, indiretamente, interesse privado perante a Administração, valendo-se dessa qualidade.

DIREITO PROCESSUAL PENAL

71. Nos termos do art. 252 do CPP, o juiz não poderá exercer jurisdição no processo em que

- (A) ele próprio ou seu cônjuge ou seu irmão for amigo íntimo de qualquer das partes.
- (B) for parte entidade associativa ou de classe da qual faça ou tenha feito parte.
- (C) seu amigo íntimo for credor ou devedor, tutor ou curador de qualquer das partes.
- (D) tiver funcionado como juiz de outra instância, pronunciando-se, de fato ou de direito, sobre a questão.
- (E) ele próprio ou seu cônjuge ou parente em linha reta ou colateral até o terceiro grau tiver servido como testemunha.

72. “Nenhum acusado, _____, será processado ou julgado sem defensor.”

Assinale a alternativa que preenche, adequada e completamente, a lacuna, nos termos do art. 261 do CPP.

- (A) com exceção do foragido
- (B) com exceção do ausente ou foragido
- (C) com exceção do ausente
- (D) ainda que ausente
- (E) ainda que ausente ou foragido

73. Nos termos do art. 351 do CPP, quando o réu estiver no território sujeito à jurisdição do juiz que houver ordenado a citação, esta se fará por

- (A) mandado.
- (B) meio eletrônico.
- (C) qualquer meio que atinja a finalidade.
- (D) carta com aviso de recebimento (AR) ou telegrama.
- (E) carta simples.

- 74.** Nos termos do quanto expressamente prescreve o art. 366 do CPP, se o acusado, citado por edital, não comparecer nem constituir advogado, ficarão suspensos o processo e o curso do prazo prescricional, podendo o juiz determinar a produção antecipada das provas consideradas urgentes. Nessa hipótese, presentes os requisitos atinentes à respectiva modalidade detentiva e com base unicamente no dispositivo de lei citado, está autorizado o juiz a decretar a prisão do acusado?
- (A) Sim, desde que o acusado já tenha sido anteriormente condenado por outro crime.
 - (B) Não, nunca.
 - (C) Sim, a prisão preventiva.
 - (D) Sim, a prisão temporária.
 - (E) Sim, desde que o crime seja inafiançável.
- 75.** No rito do procedimento comum ordinário, constata-se, imediatamente após o oferecimento da resposta escrita à acusação, que existe em favor do acusado manifesta causa de exclusão da ilicitude. Nesse caso, o art. 397 do CPP indica que se deve seguir a
- (A) decretação da extinção da punibilidade do acusado.
 - (B) absolvição sumária do acusado.
 - (C) rejeição de denúncia.
 - (D) designação de audiência de instrução e julgamento.
 - (E) designação de audiência preliminar.
- 76.** A composição civil dos danos, de acordo com o art. 74 da Lei nº 9.099/95,
- (A) tem eficácia de título executivo, a ser executado no próprio Juizado Especial Criminal.
 - (B) prescinde de forma escrita, em atenção à regra da oralidade.
 - (C) impede a propositura da ação penal, inclusive a pública incondicionada.
 - (D) é modalidade de resolução de conflito que pode ser homologada pelo Ministério Público.
 - (E) é irrecorrível quando homologada por sentença.
- 77.** É causa de suspeição do juiz:
- (A) inimizade em relação ao advogado do réu.
 - (B) quando já foi mandatário da parte.
 - (C) amizade com o advogado da parte autora.
 - (D) ter interesse no julgamento da causa em favor de uma das partes.
 - (E) quando seu cônjuge for advogado de uma das partes.
- 78.** Quanto aos prazos, assinale a alternativa correta.
- (A) Não havendo preceito legal, o prazo será de 10 dias para a parte.
 - (B) Podem as partes, de comum acordo, reduzir ou prorrogar o prazo dilatatório.
 - (C) Os prazos começam a correr no dia da intimação.
 - (D) Em regra, computar-se-ão os prazos, incluindo o dia do começo.
 - (E) O prazo, estabelecido pela lei ou pelo juiz, interrompe-se nos feriados.
- 79.** Tendo sido reconhecida a revelia do réu, que deixou de contestar a ação no prazo legal, assinale a alternativa correta.
- (A) Contra o revel que não tenha patrono nos autos, correrão os prazos a partir da publicação de cada ato decisório.
 - (B) Ocorrendo a revelia, o autor poderá modificar o pedido ou a causa de pedir, até antes da prolação da sentença.
 - (C) O revel não poderá intervir no feito nas demais fases do processo, como um dos efeitos da revelia.
 - (D) Se a contestação não estiver acompanhada de instrumento público que a lei considere indispensável à prova do fato, sofrerá o réu os efeitos da revelia.
 - (E) Na pluralidade de réus, havendo contestação de um deles, os demais, se não responderem o feito, sofrerão os efeitos da revelia.

80. No que diz respeito ao depoimento pessoal da parte, assinale a alternativa correta.

- (A) Quando o juiz não o determinar de ofício, compete a cada parte requerer seu depoimento pessoal, a fim de ser interrogada na audiência de instrução e julgamento.
- (B) A parte responderá pessoalmente ou por meio de seu advogado sobre os fatos articulados, podendo se servir de escritos anteriormente preparados, sendo defeso, a quem ainda não depôs, assistir ao interrogatório da outra parte.
- (C) A parte será intimada pessoalmente, com antecedência mínima de 30 dias da audiência, constando do mandado que se presumirão confessados os fatos, caso não compareça.
- (D) Quando a parte, sem motivo justificado, deixar de responder ao que lhe for perguntado, ou empregar evasivas, o juiz declarará na sentença sua confissão.
- (E) Se a parte intimada comparecer, a fim de discutir sobre os fatos da causa, e se recusar a depor, o juiz lhe aplicará a pena de confissão.

81. Interposto recurso, o recorrente poderá dele desistir

- (A) se não houver recurso adesivo ao seu.
- (B) somente até a remessa ao tribunal.
- (C) sem a anuência do recorrido.
- (D) até que haja a resposta do recorrido.
- (E) desde que haja a anuência dos litisconsortes.

82. Pode ser autor em ação proposta perante o Juizado Especial Cível:

- (A) pessoa física cessionária de direito de pessoa jurídica.
- (B) pessoa presa.
- (C) pessoa jurídica de direito público.
- (D) sociedades de crédito ao microempreendedor, nos termos da lei.
- (E) insolvente civil.

83. É de competência dos Juizados Especiais da Fazenda Pública, quanto à matéria, processar, conciliar e julgar causas cíveis de interesse dos Estados, do Distrito Federal, dos Territórios e dos Municípios, incluindo-se em sua competência o julgamento de

- (A) cobrança de diferenças salariais de funcionário público.
- (B) ação de improbidade administrativa.
- (C) causas sobre bens imóveis pertencentes a esses entes.
- (D) desapropriações.
- (E) mandado de segurança.

DIREITO CONSTITUCIONAL

84. Nos termos da Constituição Federal, os tratados e convenções internacionais

- (A) terão hierarquia infraconstitucional supralegal se versarem sobre direitos humanos ou não, e forem aprovados, em cada Casa do Congresso Nacional, em dois turnos, por dois terços dos votos dos respectivos membros.
- (B) serão equivalentes às emendas constitucionais se versarem sobre direitos humanos e forem aprovados, em cada Casa do Congresso Nacional, em dois turnos, por três quintos dos votos dos respectivos membros.
- (C) terão hierarquia infraconstitucional supralegal se versarem sobre direitos humanos e forem aprovados, pelo Congresso Nacional, em sessão conjunta, por três quintos dos votos dos respectivos membros.
- (D) terão hierarquia infraconstitucional ordinária se versarem sobre direitos humanos e forem aprovados, em cada Casa do Congresso Nacional, em dois turnos, por dois terços dos votos dos respectivos membros.
- (E) serão equivalentes às emendas constitucionais se versarem sobre direitos humanos ou não, e forem aprovados, pelo Congresso Nacional, em sessão conjunta, pela maioria absoluta dos seus membros.

- 85.** Levando-se em conta o que dispõe a Constituição Federal, assinale a alternativa correta.
- (A) É inviolável o sigilo da correspondência e das comunicações telegráficas, de dados e das comunicações telefônicas, salvo, no último caso, por ordem judicial, nas hipóteses e na forma que a lei estabelecer para fins de investigação criminal ou instrução processual civil ou penal.
 - (B) É livre a expressão da atividade intelectual, artística, científica e de comunicação, salvo censura ou licença.
 - (C) É livre o exercício de qualquer trabalho, ofício ou profissão, sendo vedado à lei condicioná-lo a qualificações profissionais.
 - (D) As associações poderão ter suas atividades suspensas por decisão judicial, ainda que não transitada em julgado.
 - (E) É plena a liberdade de associação, inclusive a de caráter paramilitar, desde que para fins lícitos.
- 86.** Nos termos da Constituição Federal, é livre a associação profissional ou sindical, observado o seguinte:
- (A) é vedada a criação de mais de uma organização sindical, em qualquer grau, representativa de categoria profissional ou econômica, na mesma base territorial, que será definida pelos trabalhadores ou empregadores interessados, não podendo ser inferior à área de um Município.
 - (B) é obrigatória a participação dos sindicatos em processos disciplinares, na defesa de interesses coletivos ou individuais da categoria.
 - (C) ao sindicato, cabe a defesa dos direitos e interesses coletivos ou individuais da categoria, exceto em questões administrativas.
 - (D) é facultada a participação dos sindicatos nas negociações coletivas de trabalho.
 - (E) a autorização do Estado para a fundação de sindicato será dada nos termos legais, vedadas ao Poder Público a interferência e a intervenção na organização sindical.
- 87.** Paulo já era titular de cargo efetivo de professor na rede estadual de ensino quando foi aprovado em concurso público, para outro cargo de professor, em uma autarquia federal. Tendo em vista o que estabelece a Constituição Federal acerca da vedação de acumulação remunerada de cargos públicos, Paulo
- (A) pode acumular os dois cargos de professor, desde que haja expressa concordância dos órgãos públicos envolvidos aos quais estará vinculado.
 - (B) pode acumular os dois cargos de professor, desde que observe jornada de trabalho não superior a quatro horas diárias em cada órgão público a que estará vinculado.
 - (C) pode acumular os dois cargos de professor, desde que haja compatibilidade de horários.
 - (D) não pode acumular os dois cargos de professor.
 - (E) pode acumular os dois cargos de professor, independentemente de haver compatibilidade de horários, uma vez que a proibição de acumular não se estende a autarquias.
- 88.** A Constituição Federal assegura aos servidores titulares de cargos efetivos da União, dos Estados, do Distrito Federal e dos Municípios o direito de serem aposentados
- (A) compulsoriamente, aos setenta e cinco anos de idade, com proventos proporcionais ao tempo de contribuição.
 - (B) por invalidez permanente, sendo os proventos proporcionais ao tempo de contribuição, se decorrente de acidente em serviço.
 - (C) compulsoriamente, aos setenta anos de idade, com proventos integrais.
 - (D) voluntariamente, observadas as condições de idade e o tempo de contribuição, e desde que cumprido tempo mínimo de dez anos de efetivo exercício no serviço público e três anos no cargo efetivo em que se dará a aposentadoria.
 - (E) voluntariamente, observadas as condições de idade e o tempo de contribuição, e desde que cumprido tempo mínimo de dez anos de efetivo exercício no serviço público e cinco anos no cargo efetivo em que se dará a aposentadoria.
- 89.** Dentre os órgãos do Poder Judiciário, pode(m)-se citar:
- (A) o Superior Tribunal de Justiça Desportiva.
 - (B) os Tribunais e Juízes Militares.
 - (C) o Conselho de Defesa Nacional.
 - (D) o Tribunal de Contas da União.
 - (E) o Ministério Público.

90. Maria é servidora pública estadual, ocupante do cargo de escrevente técnico judiciário, lotada na 5ª Vara da Fazenda Pública da Capital do Estado de São Paulo. Maria é sócia minoritária (2%) de sua irmã, Joana, em uma empresa que vende equipamentos de informática, na qual trabalha algumas horas por semana, sem prejuízo do cumprimento de sua jornada de trabalho e de suas atividades no cargo público, que são devidamente observadas. Joana decide participar de licitação promovida pelo Tribunal de Justiça do Estado de São Paulo, que pretende adquirir computadores e impressoras. Considerando as disposições do Estatuto dos Funcionários Públicos Civis do Estado de São Paulo, Maria

- (A) pode permitir que a empresa participe do certame, pois o Estatuto somente vedaria a relação comercial se a empresa de Maria fosse de natureza industrial ou bancária, o que não é o caso.
- (B) pode permitir que a empresa participe do certame, pois ao funcionário público somente é vedado receber subvenções ou outros valores de forma não onerosa, podendo, portanto, estabelecer relação comercial com o Tribunal de Justiça.
- (C) não deve permitir que a empresa participe do certame, se a aquisição for destinada para uso na unidade em que está lotada; caso seja o equipamento destinado a outras unidades, não há vedação estatutária.
- (D) não deve permitir que a empresa participe do certame, pois é proibido ao funcionário público participar da gerência ou administração de empresas bancárias ou industriais, ou de sociedades comerciais, que mantenham relações comerciais ou administrativas com o Tribunal.
- (E) pode permitir que a empresa participe do certame, pois não consta no Estatuto qualquer vedação aos funcionários públicos em relação à participação em sociedades comerciais e/ou empresariais, que contratem ou não com o Poder Público.

91. O Estatuto dos Funcionários Públicos Civis do Estado de São Paulo prevê, a respeito do direito de petição, que

- (A) somente a pessoa física poderá peticionar contra ilegalidade ou abuso de poder e ser isenta do pagamento de taxas.
- (B) o servidor não poderá recusar-se a protocolar, encaminhar ou apreciar a petição, sob pena de responsabilidade.
- (C) qualquer pessoa poderá se utilizar do direito de petição para comunicar ilegalidade ou abuso de poder, ou ainda defender o patrimônio público, desde que recolha a taxa devida.
- (D) não é assegurado ao servidor o direito de requerer ou representar, pedir reconsideração e recorrer de decisões, mesmo diante de manifesta ilegalidade.
- (E) a pessoa que queira reclamar sobre abuso, erro, omissão ou conduta incompatível no serviço público deverá comprovar seu interesse legítimo na questão, sob pena de indeferimento da petição.

92. A respeito das penas disciplinares e de sua aplicação, é correto afirmar, à luz do Estatuto dos Funcionários Públicos Civis do Estado de São Paulo, que

- (A) a autoridade que aplicar a pena de suspensão poderá converter essa penalidade em multa, na base de 50% (cinquenta por cento) por dia de vencimento ou remuneração, sendo o funcionário, nesse caso, obrigado a permanecer em serviço.
- (B) a pena de suspensão, que não excederá 120 (cento e vinte) dias, será aplicada em caso de falta grave ou de reincidência.
- (C) a pena de demissão por ineficiência no serviço será aplicada independentemente de verificação sobre a impossibilidade de readaptação do funcionário público.
- (D) a pena de repreensão poderá ser aplicada verbalmente ou por escrito, a critério da autoridade competente, nos casos de indisciplina ou falta de cumprimento dos deveres.
- (E) praticar, em serviço, ofensas físicas contra funcionários ou particulares, salvo se em legítima defesa, sujeita o funcionário público à pena de suspensão ou de demissão.

- 93.** A Lei de Improbidade Administrativa (Lei Federal nº 8.429/92) prevê, acerca dos sujeitos ativo e passivo do ato de improbidade, que
- (A) os atos praticados contra entidades para cuja criação ou custeio o erário haja concorrido ou concorra com menos de 50% (cinquenta por cento) do patrimônio ou da receita anual não poderão ser considerados atos de improbidade administrativa.
 - (B) se sujeitam à Lei de Improbidade os empregados e dirigentes de concessionários e permissionários de serviços públicos, pois prestam serviço público por delegação e auferem dos usuários o preço pelo uso do serviço.
 - (C) os atos praticados contra entidades para cuja criação ou custeio o erário haja contribuído ou contribua com mais de 50% (cinquenta por cento) do patrimônio ou da receita anual, como os serviços sociais autônomos, podem ser considerados atos de improbidade administrativa.
 - (D) os empregados de empresas públicas e sociedades de economia mista, bem como das entidades beneficiadas por auxílio ou subvenção estatal, não se qualificam tecnicamente como agentes públicos, mas como empregados privados, então, portanto, não poderá ser-lhes atribuída a autoria de condutas de improbidade.
 - (E) se sujeitam à Lei de Improbidade os Chefes do Executivo, Ministros e Secretários; os integrantes das Casas Legislativas; os magistrados e membros do Ministério Público; excluindo-se, portanto, da incidência da Lei de Improbidade Administrativa, os servidores públicos de qualquer regime (estatutário, trabalhista e especial).
- 94.** Com relação aos atos de improbidade previstos na Lei Federal nº 8.429/92, é correto afirmar que
- (A) a conduta ímproba somente será considerada caracterizada se comprovados o enriquecimento ilícito do agente público, o dano ao erário e a prática de ato atentatório aos princípios da Administração Pública.
 - (B) a fim de que uma conduta seja considerada ímproba, é necessário que seja praticada por agente público em sentido estrito, e que importe em violação a princípio da Administração Pública, dano ao erário e enriquecimento ilícito.
 - (C) a conduta de improbidade na espécie enriquecimento ilícito pressupõe a percepção da vantagem patrimonial ilícita obtida pelo exercício da função pública em geral, podendo haver ou não, concomitantemente, dano ao erário.
 - (D) o pressuposto exigível para os atos de improbidade por violação a princípios é a vulneração em si dos princípios administrativos, cumulada com o enriquecimento ilícito ou com o dano ao erário.
 - (E) os atos de improbidade que causam dano ao erário são caracterizados pela ocorrência de dano ao patrimônio de pessoas como a União, Estados e Municípios, e, concomitantemente, enriquecimento ilícito de agente público, já que não há dano ao erário sem que alguém se locuplete indevidamente.
- 95.** As sanções previstas pela Lei de Improbidade Administrativa são:
- (A) ressarcimento integral do dano; perda da função pública; perda dos direitos políticos; pagamento de multa civil; proibição de contratar com o Poder Público; proibição de receber benefícios ou incentivos fiscais ou creditícios; pena de reclusão de 1 (um) a 6 (seis) anos.
 - (B) pagamento de multa civil e multa penal, nos casos de culpa; proibição de contratar com o Poder Público; proibição de receber benefícios ou incentivos fiscais ou creditícios; perda dos direitos políticos.
 - (C) perda dos direitos políticos; perda de bens e valores acrescidos ilicitamente ao patrimônio; pagamento de multas civil e penal; proibição de contratar com o Poder Público; proibição de receber benefícios ou incentivos fiscais ou creditícios.
 - (D) perda de bens e valores acrescidos ilicitamente ao patrimônio; reclusão de 2 (dois) a 8 (oito) anos; perda dos direitos políticos; ressarcimento integral do dano; proibição de contratar com o Poder Público.
 - (E) perda de bens e valores acrescidos ilicitamente ao patrimônio; ressarcimento integral do dano; perda da função pública; suspensão dos direitos políticos; pagamento de multa civil; proibição de contratar com o Poder Público; proibição de receber benefícios ou incentivos fiscais ou creditícios.

96. João é escrevente técnico judiciário do Tribunal de Justiça do Estado de São Paulo e, estando sujeito à apresentação da declaração de bens prevista na Lei Federal nº 8.429/92, apresentou a declaração devida em maio de 2014. No entanto, posteriormente, verifica-se que João afirmou na declaração não possuir bens imóveis, o que, no entanto, não é verdade, já que João é proprietário de apartamento na cidade de São Paulo, onde reside e trabalha, desde 2010. É constatado também que o imóvel é de valor modesto, de aquisição compatível com os rendimentos de João e sua esposa. Neste caso, em relação à conduta de João, é correto afirmar que a Lei de Improbidade Administrativa

- (A) comina a sanção de suspensão para a conduta de João, que embora não tenha enriquecido ilícitamente, deixou de apresentar os dados corretos na declaração.
- (B) prevê sanção de multa a João, por não haver prestado a declaração de bens de forma correta ao Tribunal de Justiça.
- (C) considera que João está sujeito a penas disciplinares nas quais serão consideradas a natureza e a gravidade da infração e os danos que dela provierem para o serviço público.
- (D) considera João sujeito à pena de demissão a bem do serviço público, sem prejuízo de outras sanções cabíveis, por haver prestado declaração de bens falsa.
- (E) não impõe qualquer sanção pela conduta de João, já que seu patrimônio, em si, é lícito, o que é o cerne da Lei de Improbidade Administrativa.

97. Considerando as previsões constantes das Normas da Corregedoria Geral da Justiça do Tribunal de Justiça do Estado de São Paulo, assinale a alternativa que corretamente discorre sobre os livros e classificadores que devem ser mantidos pela Administração Geral do Fórum.

- (A) O livro de registro de feitos administrativos (sindicâncias, procedimentos disciplinares, representações etc.) será mantido por 5 (cinco) anos após possibilitado o registro e controle pelo sistema informatizado oficial.
- (B) Os procedimentos disciplinares e sindicâncias administrativas da corregedoria permanente, vinculada a cada uma das unidades, serão diretamente cadastrados no Sistema de Automação da Justiça de Primeiro Grau e estão sujeitos ao segredo de justiça, utilizando-se os códigos próprios.
- (C) Haverá em cada serventia judicial, repartições e demais estabelecimentos sujeitos à sua fiscalização um livro de registro final no qual serão lavrados os respectivos termos correccionais e punições disciplinares aplicadas.
- (D) Para fins de fiscalização correccional, a Administração Geral do Fórum deverá manter um livro de visitas e correições no qual serão lavrados os respectivos termos e o registro de portarias e ordens de serviço, com índice, bem como o protocolo de autos e papéis em geral.
- (E) A Administração Geral do Fórum manterá os seguintes classificadores: registro de feitos administrativos; registro de portarias e ordens de serviço, com índice; registro das decisões terminativas proferidas em feitos administrativos.

98. A respeito do Sistema Informatizado Oficial, é correto afirmar que as Normas da Corregedoria Geral da Justiça do Tribunal de Justiça do Estado de São Paulo preveem que

- (A) nos ofícios de justiça, o registro e controle da movimentação dos feitos realizar-se-ão pelo sistema informatizado oficial, podendo ser mantidas as fichas individuais materializadas em papel ou constantes de outros sistemas informatizados.
- (B) compete à Administração Geral do Fórum cadastrar, no sistema informatizado oficial, a decretação do segredo de justiça, a concessão da justiça gratuita, o deferimento da tramitação prioritária do processo ou o reconhecimento de qualquer benefício processual a alguma das partes.
- (C) as vítimas identificadas na denúncia ou queixa e as testemunhas de processo criminal terão suas qualificações lançadas no sistema informatizado oficial, ainda que derem conta de coação ou grave ameaça e pedirem para não haver identificação de seus dados.
- (D) os servidores dos ofícios de justiça deverão se adaptar continuamente às evoluções do sistema informatizado oficial, utilizando plenamente as funcionalidades disponibilizadas para a realização dos atos pertinentes ao serviço.
- (E) os níveis de acesso às informações serão estabelecidos em expediente interno pela Corregedoria Geral da Justiça, podendo o funcionário credenciado ceder a respectiva senha ou permitir que outro funcionário use-a para acessar o sistema informatizado.

99. As Normas da Corregedoria Geral de Justiça do Tribunal de Justiça do Estado de São Paulo preveem que, recebida petição inicial ou intermediária acompanhada de objetos de inviável entranhamento aos autos do processo,

- (A) o escrivão deverá conferir, arrolar e quantificar esses objetos, lavrando certidão, sempre que possível na presença do interessado, mantendo-os sob sua guarda e responsabilidade até encerramento da demanda.
- (B) tais objetos serão certificados nos autos e anotados no sistema informatizado oficial e encaminhados, a seguir, ao depositário oficial do juízo, para guarda até o trânsito em julgado da decisão.
- (C) o escrivão deverá apresentar todos os objetos ao juiz competente para o feito, que deverá designar depositário judicial, o qual deverá guardar os objetos durante o trâmite do feito.
- (D) os objetos deverão ser restituídos imediatamente à parte que os apresentou, sendo assinalado prazo de 10 (dez) dias para reapresentação de tais objetos, de forma que seja viabilizado o encarte destes aos autos.
- (E) os objetos serão previamente arrolados, descritos e documentados, sendo intimada a parte petionante a retirá-los e conservá-los no estado em que se encontram até a decisão final nos autos.

100. Sobre o acesso aos autos judiciais e administrativos de processos em andamento ou findos, tendo em vista as Normas da Corregedoria Geral de Justiça do Tribunal de Justiça do Estado de São Paulo, é correto afirmar que

- (A) as entidades que reconhecidamente prestam serviços de assistência judiciária poderão, por intermédio de advogado com procuração nos autos, autorizar a consulta de processos que tramitam em segredo de justiça em cartório por, exclusivamente, acadêmicos de Direito inscritos na OAB.
- (B) poderá ser deferida – quando os autos não estiverem em segredo de justiça, ao advogado ou estagiário de Direito, regularmente inscritos na OAB, que tenham sido constituídos procuradores de quaisquer das partes – a retirada de autos para cópia, pelo período de 2 (duas) horas, mediante controle de movimentação física.
- (C) os escrivães judiciais e os chefes de seção judiciária manterão, pessoalmente ou mediante servidor designado, rigorosa vigilância sobre os autos dos processos, sobretudo quando do seu exame, por qualquer pessoa, no balcão do ofício de justiça ou seção administrativa.
- (D) nos casos complexos ou com pluralidade de interesses, a fim de que não sejam prejudicados nem o andamento do feito nem o acesso aos autos, ficará vedada a retirada de cópias de todo o feito, que somente ficará à disposição para consulta dos interessados.
- (E) quando não estejam sujeitos a segredo de justiça, é assegurado aos advogados, estagiários de Direito e às partes, por meio do exame em balcão do ofício de justiça ou seção administrativa, não cabendo, no entanto, acesso ao público em geral.

