

CARGO: AGENTE DOS CORREIOS

ATIVIDADE 3:

# OPERADOR DE TRIAGEM E TRANSBORDO

CADERNO DE PROVA OBJETIVA



Leia com atenção as instruções abaixo.

- 1 Confira inicialmente se o tipo deste caderno — CADERNO 31-CINZA — coincide com o que está registrado em sua folha de respostas e no rodapé de cada página numerada deste caderno. Em seguida, verifique se ele contém a quantidade de questões indicada em sua folha de respostas, correspondentes à prova objetiva. Caso o caderno esteja incompleto, tenha qualquer defeito, ou apresente divergência quanto ao tipo, solicite ao fiscal de sala mais próximo que tome as providências cabíveis, pois não serão aceitas reclamações posteriores nesse sentido.
- 2 Quando autorizado pelo chefe de sala, no momento da identificação, escreva, no espaço apropriado da **folha de respostas**, com a sua caligrafia usual, a seguinte frase:

*A verdade é sempre o álibi perfeito.*

Conforme previsto em edital, o descumprimento dessa instrução implicará a anulação da sua prova e a sua eliminação do concurso.

- 3 Não se comunique com outros candidatos nem se levante sem autorização de fiscal de sala.
- 4 Na duração da prova, está incluído o tempo destinado à identificação — que será feita no decorrer da prova — e ao preenchimento da folha de respostas.
- 5 Ao terminar a prova, chame o fiscal de sala mais próximo, devolva-lhe a sua folha de respostas e deixe o local de prova.
- 6 A desobediência a qualquer uma das determinações constantes em edital, no presente caderno ou na folha de respostas poderá implicar a anulação da sua prova.

CADERNO

# 31

CINZA

CONCURSO PÚBLICO  
NÍVEL MÉDIO

# MANHÃ

**OBSERVAÇÕES:**

- Não serão conhecidos recursos em desacordo com o estabelecido em edital.
- É permitida a reprodução deste material apenas para fins didáticos, desde que citada a fonte.


**MAIS INFORMAÇÕES:**

- Internet: [www.cespe.unb.br](http://www.cespe.unb.br)
- telefone: 0(XX) 61 3448-0100

- Nas questões a seguir, marque, para cada uma, a única opção correta, de acordo com o respectivo comando. Para as devidas marcações, use a Folha de Respostas, único documento válido para a correção das suas respostas.
- Nas questões que avaliam conhecimentos de informática, a menos que seja explicitamente informado o contrário, considere que todos os programas mencionados estão em configuração padrão, em português, que o *mouse* está configurado para pessoas destras, que expressões como **clique**, **clique simples** e **clique duplo** referem-se a cliques com o botão esquerdo do *mouse* e que **teclar** corresponde à operação de pressionar uma tecla e, rapidamente, liberá-la, acionando-a apenas uma vez. Considere também que não há restrições de proteção, de funcionamento e de uso em relação aos programas, arquivos, diretórios, recursos e equipamentos mencionados.

## DISCIPLINA: INFORMÁTICA

### QUESTÃO 1



Na figura acima, identifica-se o componente de *hardware*, normalmente encontrado em computadores modernos, denominado

- A disco rígido (HD).
- B *pendrive*.
- C *nobreak*.
- D gravador de DVD.
- E placa-mãe.

### QUESTÃO 2

É responsável pela realização de cálculos matemáticos em um computador o componente de *hardware* denominado

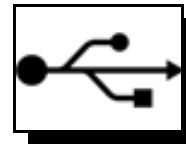
- A barramento do sistema.
- B teclado.
- C processador.
- D *byte*.
- E disquete.

### QUESTÃO 3

A transferência, para um computador local, de arquivos disponibilizados na Internet é possível com a utilização de protocolos. Assinale a opção que apresenta o nome de um dos protocolos comumente utilizados nessa transferência.

- A *email*
- B FTP
- C *chat*
- D Orkut
- E *browser*

### QUESTÃO 4



A porta padrão que corresponde ao símbolo representado na figura acima — utilizada para a conexão de *pendrive* em um computador — é denominada

- A USB.
- B PS2.
- C DB9.
- D DIMM.
- E HDMI.

### QUESTÃO 5

Entre os componentes periféricos de um computador, constituem, respectivamente, exemplos de dispositivos de entrada e de saída de dados de um computador

- A o *mouse* e o teclado.
- B a impressora e o microfone.
- C a impressora e o monitor LCD.
- D o teclado e o microfone.
- E o *mouse* e o monitor LCD.

A figura a seguir, que mostra a janela de um aplicativo do Windows XP, serve de base para as questões 6 e 7.



### QUESTÃO 6

A figura em questão mostra uma janela correspondente ao aplicativo

- A Windows Media.
- B Windows Player.
- C Windows Paint.
- D Windows Explorer.
- E Windows WordPad.

## QUESTÃO 7

Considerando a janela mostrada na figura, assinale a opção correta.

- A Os atalhos, cuja função é facilitar o acesso rápido a arquivos e pastas e, ainda, permitir que seja associado resumo a esses arquivos e pastas, podem ser devidamente configurados utilizando-se os recursos disponibilizados no *menu* Favoritos dessa janela.
- B O aplicativo do Windows a que se refere a janela tem por função principal exibir a estrutura hierárquica de arquivos contidos na memória RAM do computador bem como das unidades de rede que foram mapeadas para letras A, C, D, E, F e G e associadas às unidades físicas do computador.
- C É possível a criação de uma nova subpasta dentro da pasta Meu computador por meio de opção encontrada no *menu* Ferramentas dessa janela.
- D Para se copiarem e colarem arquivos por meio da janela mostrada, é correto o uso dos recursos disponibilizados no *menu* Arquivo.
- E Por meio do aplicativo do Windows a que se refere a janela, é possível abrir uma pasta que contenha determinado arquivo e realizar operações que permitem mover esse arquivo para outra pasta.

## QUESTÃO 8

A janela Painel de controle do Windows XP disponibiliza ao usuário aplicativos capazes de auxiliá-lo na realização de tarefas que permitem personalizar o seu computador. Entre essas tarefas inclui-se a de instalar novos dispositivos de entrada e saída no computador, como placa de vídeo, placa de rede e placa de som, cujo assistente pode ser inicializado ao se aplicar clique duplo sobre o ícone

- A  Impressoras e aparelhos de fax.
- B  Opções de telefone e modem.
- C  Adicionar hardware.
- D  Adicionar ou remover programas.
- E  Atualizações Automáticas.

## QUESTÃO 9







A figura acima ilustra parte de uma janela em execução em um computador no qual está instalado o sistema operacional Windows XP. Essa janela, que apresenta uma lista de programas em execução no computador, corresponde ao aplicativo denominado

- A Gerenciador de tarefas do Windows.
- B Painel de controle do Windows.
- C Barra de ferramentas do Windows.
- D *menu* Iniciar do Windows.
- E Gerenciador de utilitários do Windows.

## QUESTÃO 10

	A	B	C	D	E	F
1	Item	Preço unitário	Volume	Preço total		
2	Envelope sedex médio	1,9	10	19		
3	Envelope pré-selado	4,1	15	61,5		
4						

Considerando a figura acima, que ilustra parte de uma janela do Microsoft Excel 2007 com uma planilha em processo de edição, assinale a opção correta.

- A As informações contidas na janela mostrada evidenciam que o valor contido na célula D3 foi inserido por meio de digitação direta de valor pelo usuário, não podendo ter surgido como resultado da aplicação de fórmula.
- B Por meio do botão , é possível criar bordas para as células com formato de texto; bordas para células com formato de números devem ser criadas por meio do botão .
- C Para se alterar a orientação do conteúdo em determinada célula, como, por exemplo, na direção de uma das diagonais da célula, é correto o uso do botão .
- D As informações representadas pelos ícones  evidenciam que essa planilha Excel está configurada para a inserção apenas de texto e de números, e não, de figuras e imagens.
- E Na situação da planilha mostrada, a célula D2 pode conter uma fórmula do tipo =C2\*B2.


## QUESTÃO 11



Considerando a figura acima, que mostra parte de uma planilha em processo de edição no Microsoft Excel 2007, assinale a opção correta.

- A No Excel, após a criação de um gráfico, não é possível alterar o seu estilo, sendo apenas possível alterar a posição de suas

linhas por meio da ferramenta



- B A ferramenta **Salvar como Modelo** possibilita a criação de um modelo em memória RAM para ser reutilizado na planilha em edição até o fechamento da janela do Excel que contém a planilha em edição, sem que se tenha acesso a esse modelo a partir de outras planilhas em futuras sessões de uso do Excel.
- C A planilha contém um gráfico do tipo barras com linhas irregulares.
- D Para a criação do gráfico mostrado na figura, é necessário, inicialmente, selecionar as três linhas da planilha que contêm as células de A1 a G3.
- E O conteúdo correspondente às células de A4 a G4 não está representado no gráfico mostrado na planilha.

## QUESTÃO 12

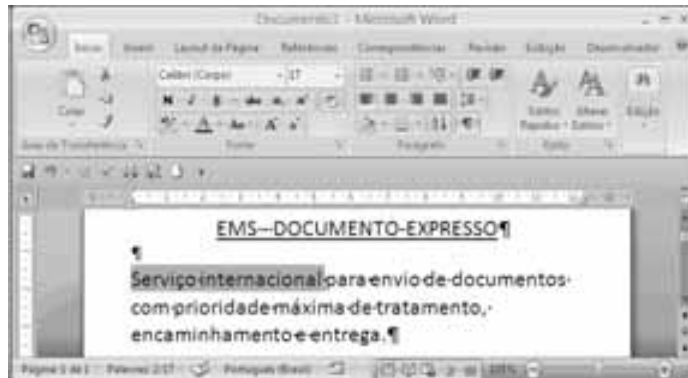


A figura acima ilustra parte de uma janela do Excel, na qual se destaca a ferramenta AutoSoma, recurso que pode ser corretamente utilizado, entre outras funcionalidades,

- A para se classificarem, em ordem crescente ou decrescente, dados numéricos que constituam o conteúdo de células previamente selecionadas.
- B para se proteger o conteúdo de células previamente selecionadas contra alterações não autorizadas, utilizando-se recursos de *software* antivírus.
- C para se realizarem testes de integridade do conteúdo de células previamente selecionadas, antes que uma fórmula seja aplicada ao conjunto dessas células.
- D para se calcular a soma ou a média aritmética dos conteúdos numéricos de células adjacentes previamente selecionadas em uma coluna ou em uma linha da planilha.
- E para que sejam preenchidos automaticamente os conteúdos de um conjunto de células adjacentes, seguindo-se um padrão estabelecido por outro conjunto de células previamente selecionadas.






## Texto para as questões de 13 a 16

A figura abaixo mostra uma janela do Microsoft Word 2007, em execução em um computador com sistema operacional Windows XP. Essa janela contém um documento em processo de edição, no qual o trecho “Serviço internacional” está selecionado.



## QUESTÃO 13

Com base na janela do Microsoft Word 2007 ilustrada no texto, assinale a opção correta.


- A Para se numerarem as linhas do parágrafo do documento em edição que contém o trecho selecionado, é suficiente pressionar simultaneamente e manter pressionadas as teclas **Ctrl** e **A**; clicar o botão  e liberar finalmente as teclas pressionadas.
- B Na situação considerada, ao se clicar o botão , o trecho selecionado ficará com a cor do texto alterada para vermelho.
- C Na situação considerada, ao se clicar o botão **N**, o trecho selecionado será alterado e aparecerá em itálico e sublinhado, ou seja, ficará na seguinte forma: *Serviço internacional*.
- D Para se mover o trecho selecionado, de sua posição atual para uma nova posição no documento em edição, é correto realizar a seguinte sequência de ações: clicar o botão , para recortar o trecho selecionado; posicionar o ponto de inserção no local para onde se deseja mover o trecho selecionado; clicar o botão Colar, em sua parte superior —  —, para colar o texto na nova posição.
- E Na situação mostrada, ao se clicar o botão , o parágrafo do documento em edição que contém o trecho selecionado ficará alinhado tanto à direita, quanto à esquerda.




## QUESTÃO 14

Na janela do Microsoft Word 2007 ilustrada no texto, o campo **17** informa

- A a intensidade da cor da fonte utilizada nas palavras que compõem o trecho selecionado.
- B o tamanho da fonte utilizada no trecho selecionado.
- C o espaçamento entre as linhas do parágrafo em que se encontra o trecho selecionado.
- D a largura da coluna do parágrafo em que se encontra o trecho selecionado.
- E o tamanho da margem direita do parágrafo em que se encontra o trecho selecionado.


**QUESTÃO 15**



Na situação da janela do Microsoft Word 2007 mostrada no texto, o uso do botão  permite

- A aplicar realce no trecho selecionado, utilizando-se a cor predefinida no conjunto de botões .
- B excluir do documento em edição o trecho selecionado, sendo o espaço que era ocupado por esse trecho substituído por caracteres em branco.
- C colorir, com a cor previamente definida por meio do conjunto de botões , o plano de fundo do trecho selecionado.
- D aplicar aos caracteres do trecho selecionado a cor definida pelo conjunto de botões .
- E copiar a formatação utilizada no local do documento onde o trecho selecionado se encontra e aplicá-la em outro local do documento.

**QUESTÃO 16**

Considere que, para imprimir o conteúdo do documento em edição na janela do Microsoft Word 2007 ilustrada no texto, pretenda-se utilizar recursos desse aplicativo disponibilizados por meio do

conjunto de botões . Nesse caso, para o acesso a esse conjunto de botões, visualizando-o na janela do Word, é suficiente, na referida janela do aplicativo, clicar

- A o botão .
- B o botão .
- C o menu **Exibição**.
- D o campo **Área de Transferência**.
- E o menu **Início**.

**QUESTÃO 17**

Em uma apresentação que esteja em edição no Microsoft PowerPoint 2007,

- A para se inserir uma tabela em um eslaide, deve-se, inicialmente, criá-la por meio do aplicativo Microsoft Excel.
- B ocultar um eslaide significa excluí-lo do documento referente a essa apresentação.
- C para se inserir texto no formato sobrescrito ou subscrito em um eslaide, deve-se utilizar o recurso denominado SmartArt.
- D é possível inserir, em um eslaide, uma imagem criada a partir do aplicativo Paint, disponibilizado como acessório do Windows XP.
- E para se inserir um *clip-art* em um eslaide, é necessário, previamente, associar o conteúdo do *clip-art* a um *hiperlink* direcionado para uma página da Internet.

**QUESTÃO 18**

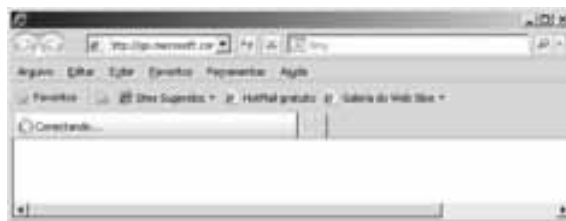
Com relação a conceitos, tecnologias e serviços associados à Internet, assinale a opção correta.

- A O Mozilla Firefox é um navegador *web* que permite o acesso a conteúdo disponibilizado em páginas e sítios da Internet.
- B O Microsoft Office Access é um tipo de *firewall* que impede que redes de computadores que façam parte da Internet sejam invadidas.
- C Serviços de *webmail* consistem no uso compartilhado de *software* de grupo de discussão instalado em computador pertencente a uma rede local (LAN) para uso exclusivo, e em segurança, dos computadores pertencentes a essa LAN.
- D Na conexão denominada banda larga, para que usuários residenciais tenham acesso a recursos da Internet, exige-se o uso de cabos ópticos entre as residências dos usuários e seus provedores de Internet.
- E O protocolo TCP/IP é utilizado na Internet para operações de transferência de arquivos quando se deseja garantir segurança sem o uso de *software* antivírus.




**QUESTÃO 19**

Assinale a opção em que a expressão apresentada possui estrutura correta de endereço de correio eletrônico.

- A servidor:br.usuario.edu
- B usuario@servidor.org.br
- C usuario/servidor/com/br
- D servidor#usuario.org
- E usuario&servidor.gov.br

**QUESTÃO 20**

Considerando que a figura acima ilustre uma janela do Internet Explorer 8 (IE8) durante uma sessão de uso em um computador com sistema operacional Windows XP e que tenha sido realizada uma solicitação de conexão a uma página *web* cujo conteúdo ainda não tenha sido carregado na área de páginas do IE8, assinale a opção correta.

- A O uso do botão , na barra de ferramentas do IE8, permite interromper o processo de carregamento da referida página.
- B O uso do botão , na barra de ferramentas do IE8, permite ativar o modo de operação do IE8 denominado banda larga, que acelera o processo de carregamento da referida página.
- C Por meio do menu **Ferramentas**, é possível ativar o bloqueador de *pop-ups* do IE8, o que impede que a referida página, ao ser completamente carregada, infecte o computador com vírus e outros aplicativos maliciosos.
- D Por meio do conjunto de botões , na barra de ferramentas do IE8, é possível ajustar o tamanho da fonte que será utilizada no conteúdo da referida página, quando ela for apresentada na área de páginas do IE8, após o término do seu carregamento.
- E As informações contidas na janela do IE8 são suficientes para se concluir corretamente que a página que está sendo carregada é a página inicial do IE8.

**DISCIPLINA: MATEMÁTICA****Texto para as questões 21 e 22**

Em 2010, entre 2% e 6% da população de uma cidade com 30.000 habitantes enviaram, por ocasião das festividades natalinas, cartões de felicitações a parentes e amigos. Sabe-se que cada habitante enviou, no máximo, um cartão.

**QUESTÃO 21**

Considerando-se que 25% dos referidos cartões tenham sido enviados a moradores de cidades do estado de São Paulo, é correto afirmar que o número que expressa a quantidade de cartões enviada a esse estado está entre

- A 900 e 1.300.
- B 1.300 e 1.700.
- C 1.700 e 2.100.
- D 100 e 500.
- E 500 e 900.

**QUESTÃO 22**

Considerando-se que 45 dos cartões enviados pela população da referida cidade tenham sido devolvidos ao remetente, por erro no endereçamento, e que esse número corresponda a 5% dos cartões enviados, é correto afirmar que a porcentagem de habitantes que enviaram cartões de felicitações é igual a

- A 6%.
- B 2%.
- C 3%.
- D 4%.
- E 5%.

**QUESTÃO 23**

Se 4 selos do tipo A e 4 selos do tipo B custam R\$ 7,00 e se um selo do tipo A custa 50% a mais que um selo do tipo B, então 8 selos do tipo A custam

- A R\$ 9,00.
- B R\$ 10,50.
- C R\$ 12,00.
- D R\$ 12,60.
- E R\$ 8,40.

**Texto para as questões 24 e 25**

Uma empresa confeccionou catálogos dos tipos A e B para presentear seus clientes. Um catálogo do tipo A pesa 240 g e um do tipo B, 350 g. Os catálogos foram organizados em pacotes, contendo cada um deles apenas catálogos de um mesmo tipo.

**QUESTÃO 24**

Com base nas informações do texto, é correto afirmar que, se todos os pacotes tiverem o mesmo peso e se esse peso for inferior a 10 kg, então cada pacote pesará

- A 8,3 kg.
- B 8,4 kg.
- C 8 kg.
- D 8,1 kg.
- E 8,2 kg.

**QUESTÃO 25**

Se 540 catálogos do tipo A e 340 do tipo B forem separados em lotes, de modo que cada lote contenha catálogos dos dois tipos e a mesma quantidade de catálogos de cada tipo, então a quantidade máxima de lotes em que poderão ser separados esses catálogos será igual a

- A 20.
- B 34.
- C 54.
- D 10.
- E 17.

**RASCUNHO**

**QUESTÃO 26**

Considere que, das correspondências que um carteiro deveria entregar em determinado dia,  $\frac{5}{8}$  foram entregues pela manhã,  $\frac{1}{5}$  à tarde e 14 ficaram para ser entregues no dia seguinte. Nessa situação, a quantidade de correspondências entregue pelo carteiro naquele dia foi igual a

- A 98.
- B 112.
- C 26.
- D 66.
- E 82.

**QUESTÃO 27**

Estima-se que, em uma agência dos Correios, um grupo de 6 funcionários igualmente eficientes atenda 100 clientes em 45 minutos. Nessa situação, se outros 4 funcionários, com a mesma eficiência dos primeiros, forem adicionados ao grupo, então essas 100 pessoas serão atendidas em

- A 27 minutos.
- B 30 minutos.
- C 35 minutos.
- D 40 minutos.
- E 18 minutos.

**QUESTÃO 28**

Considerando-se que duas caixas, A e B, tenham, ambas, a forma de um paralelepípedo retângulo, que a caixa A tenha arestas que meçam 27 cm, 18 cm e 9 cm, e a caixa B tenha arestas medindo o dobro das arestas da caixa A, é correto afirmar que o volume da caixa B corresponde a

- A 8 vezes o volume da caixa A.
- B 2 vezes o volume da caixa A.
- C 3 vezes o volume da caixa A.
- D 4 vezes o volume da caixa A.
- E 6 vezes o volume da caixa A.

**Texto para as questões 29 e 30**

Em convênio firmado com o Banco Postal, uma rede de lojas autorizou esse estabelecimento a receber pagamentos de boletos de clientes da rede. Nos termos do referido convênio, o banco deve cobrar juros simples de 1% a cada dia útil de atraso no pagamento e usar essa mesma taxa para desconto sobre o valor no boleto, denominado valor de face, para cada dia útil de pagamento antecipado.

**QUESTÃO 29**

Com base na situação descrita no texto, é correto afirmar que, se um boleto da referida rede de lojas, com valor de face de R\$ 650,00, for pago com 10 dias úteis de atraso, o valor a ser pago será igual a

- A R\$ 660,00.
- B R\$ 715,00.
- C R\$ 718,00.
- D R\$ 651,00.
- E R\$ 656,50.

**QUESTÃO 30**

De acordo com as informações do texto, se um boleto com valor de face de R\$ 150,00 for pago 6 dias úteis antes do vencimento, o valor a ser pago será igual a

- A R\$ 141,00.
- B R\$ 141,50.
- C R\$ 144,00.
- D R\$ 149,00.
- E R\$ 138,00.

**RASCUNHO**

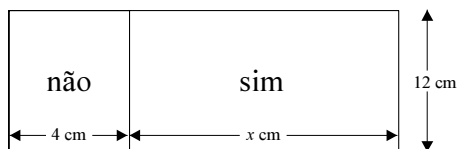
**QUESTÃO 31****Craque aposentado**

Ronaldo, o Fenômeno, está certo em parar agora?

Sim: 84% Não: 16%

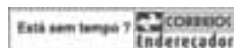
Enquete em *Veja.com*. In: *Veja*, 23/2/2011, p. 38 (com adaptações).

Essa enquete está representada no diagrama retangular de 12 cm de altura, ilustrado abaixo, em que  $x$  corresponde ao comprimento da base do retângulo que representa os entrevistados que responderam sim à pergunta; o comprimento da base do retângulo correspondente aos entrevistados que responderam não à pergunta é igual a 4 cm.



Com base nesses dados, é correto afirmar que o valor de  $x$  é

- Ⓐ superior a 26 e inferior a 29.
- Ⓑ superior a 29.
- Ⓒ inferior a 20.
- Ⓓ superior a 20 e inferior a 23.
- Ⓔ superior a 23 e inferior a 26.

**Texto para as questões 32 e 33****Cálculo de preços e prazos de entrega**

	Origem	Destino
CEP:	XXXXX-XXX	YYYYYY-YYY
Endereço	A	Rua B
Bairro	C	D
Cidade/UF	E	G
Prazo de entrega	dia da postagem + 2 dias úteis	
Valor do frete	R\$ 136,90	
Serviços opcionais	aviso de recebimento: R\$ 2,80 valor declarado: R\$ 1.200,00 – Tarifa: R\$ 11,00 caixa de encomenda (54 cm x 36 cm x 27 cm): R\$ 14,45	
Valor total	<b>R\$ 165,15</b>	

Figura adaptada, com informações hipotéticas, em um simulador de preços e prazos de entrega, no sítio [www.correios.com.br](http://www.correios.com.br).

**QUESTÃO 32**

Considere que, independentemente de outros fatores, os valores de tarifa cobrada sobre o valor declarado e o valor declarado sejam números diretamente proporcionais. Nesse caso, se um cidadão paga R\$ 180,35 ao postar uma correspondência com valor declarado de R\$ 1.500,00, em uma caixa de encomenda idêntica à citada no texto, com o mesmo valor do aviso de recebimento, com a mesma origem e o mesmo destino, o valor do frete é

- Ⓐ superior a R\$ 150,00 e inferior a R\$ 155,00.
- Ⓑ superior a R\$ 155,00 e inferior a R\$ 160,00.
- Ⓒ superior a R\$ 160,00 e inferior a R\$ 165,00.
- Ⓓ superior a R\$ 165,00.
- Ⓔ inferior a R\$ 150,00.

**QUESTÃO 33**

Se a caixa de encomenda citada no texto tiver a forma de um paralelepípedo retângulo, cujas arestas tenham as medidas apresentadas, então a área lateral dessa caixa será igual a

- Ⓐ 0,008748 m<sup>2</sup>.
- Ⓑ 87,48 dm<sup>2</sup>.
- Ⓒ 8.748.000 mm<sup>2</sup>.
- Ⓓ 87.480 cm<sup>2</sup>.
- Ⓔ 0,08748 m<sup>2</sup>.

**RASCUNHO**



**QUESTÃO 34**

Em determinado dia, todas as correspondências recebidas na agência dos Correios da cidade Alfa destinavam-se apenas a moradores dos bairros X, Y e Z. Ao bairro X foi destinada metade das correspondências recebidas na agência menos 30 correspondências; ao bairro Y foi destinada a terça parte das correspondências restantes, isto é, depois de retiradas as do bairro X, e mais 70 correspondências; o bairro Z recebeu 180 correspondências.

O total de correspondências recebidas, nesse dia, na agência dos Correios da cidade Alfa foi

- A superior a 680 e inferior a 700.
- B superior a 700 e inferior a 720.
- C superior a 720.
- D inferior a 660.
- E superior a 660 e inferior a 680.

**QUESTÃO 35**

Na compra de 2 frascos de tira-manchas, cada um deles ao custo de R\$ 9,00; 6 frascos de limpador multiuso, cada um deles ao custo de R\$ 2,00; 4 litros de desinfetante, cada um deles ao custo de R\$ 1,50; e de 6 unidades de esponja dupla face, cada uma delas ao custo de R\$ 2,00; um cliente pagou com 3 notas de R\$ 20,00, tendo recebido R\$ 19,20 de troco.

Nesse caso, o cliente recebeu desconto de

- A 13%.
- B 14%.
- C 15%.
- D 16%.
- E 12%.

**QUESTÃO 36**

Vários jornais e revistas anunciaram, nos últimos meses, que o preço do quilo de picanha, corte preferido para o preparo de um bom churrasco, subiu 42%.

Nesse caso, se um consumidor de picanha decidir manter o mesmo gasto mensal com a compra desse alimento, ele deverá diminuir o consumo em

- A mais de 40% e menos de 44%.
- B mais de 44% e menos de 48%.
- C mais de 28% e menos de 32%.
- D mais de 32% e menos de 36%.
- E mais de 36% e menos de 40%.

**QUESTÃO 37**

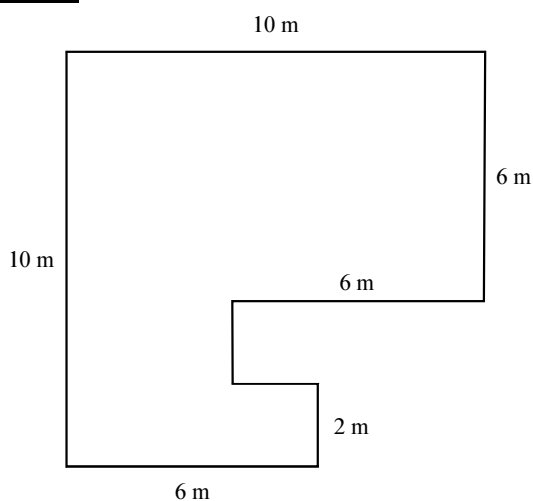
Considere que, em um investimento em caderneta de poupança, a taxa de juros seja de 0,6% ao mês. Nesse caso, se uma pessoa depositar R\$ 1.000,00 em uma conta de poupança no dia 1.º/6/2011 e não fizer nenhuma retirada, o montante, no aniversário de dois meses desse depósito, será

- A superior a R\$ 1.014,00 e inferior a R\$ 1.015,00.
- B superior a R\$ 1.015,00 e inferior a R\$ 1.016,00.
- C superior a R\$ 1.016,00.
- D inferior a R\$ 1.013,00.
- E superior a R\$ 1.013,00 e inferior a R\$ 1.014,00.

**QUESTÃO 38**

Considere que sejam cobrados R\$ 5,00 para o envio de uma carta comercial simples e uma carta comercial registrada, ambas de até 20 g, e R\$ 11,10 para o envio de 3 cartas comerciais simples e 2 registradas, todas de até 20 g. Nessa situação, a diferença entre o preço cobrado para o envio de uma carta comercial registrada e o cobrado para o envio de uma carta comercial simples, ambas de até 20 g, é de

- A R\$ 2,60.
- B R\$ 2,70.
- C R\$ 2,80.
- D R\$ 2,90.
- E R\$ 2,50.

**RASCUNHO****QUESTÃO 39**

Sabendo-se que todos os ângulos dos vértices do terreno ilustrado na figura acima medem  $90^\circ$  e que o metro quadrado do terreno custa R\$ 120,00, é correto afirmar que o preço desse terreno é

- A superior a R\$ 9.900,00 e inferior a R\$ 10.100,00.
- B superior a R\$ 10.100,00.
- C inferior a R\$ 9.500,00.
- D superior a R\$ 9.500,00 e inferior a R\$ 9.700,00.
- E superior a R\$ 9.700,00 e inferior a R\$ 9.900,00.

**QUESTÃO 40**

As remunerações brutas mensais — isto é, sem qualquer desconto — dos empregados de determinada empresa são calculadas com base na soma das seguintes quantidades:

- salário fixo, no valor de R\$ 2.400,00, correspondente a 160 horas trabalhadas no mês;
- horas extras, definidas como a remuneração correspondente à quantidade de horas e(ou) fração de hora que ultrapassar as 160 horas exigidas, multiplicada pelo valor de cada hora completa, que é igual a R\$ 15,00.

Com base nessa situação hipotética e considerando-se que, em determinado mês, a remuneração bruta de um empregado dessa empresa foi igual a R\$ 2.750,00, é correto afirmar que, nesse mês, esse empregado trabalhou durante 183 horas e

- A 20 minutos.
- B 25 minutos.
- C 30 minutos.
- D 10 minutos.
- E 15 minutos.

## DISCIPLINA: PORTUGUÊS

## QUESTÃO 41

Quem observa a trajetória dos Correios brasileiros há de notar dois movimentos de sentidos opostos que se completam entre si: um de reforma, outro de preservação; um conectado aos vertiginosos avanços das comunicações do mundo globalizado; outro voltado para a conservação da memória nacional e do valioso patrimônio arquitetônico e cultural que lhes serve de suporte. Afinal, não é toda empresa que tem atrás de si um passado de mais de três séculos e meio de história.

A preocupação dos Correios em preservar um patrimônio histórico, que é de todo o povo brasileiro, revela-se por meio da restauração e reforma de seus prédios em diversas capitais brasileiras, transformando-os em importantes centros de preservação e promoção cultural.

Internet: <www.correios.com.br> (com adaptações).

Depreende-se das ideias do texto que os Correios brasileiros

- A) preenchem a lacuna deixada pelo povo brasileiro, que não se importa com a conservação dos prédios de seu país.
- B) ignoram os avanços das comunicações do mundo globalizado.
- C) procuram constante substituição do seu patrimônio arquitetônico por prédios mais modernos.
- D) têm uma história de mais de 350 anos.
- E) efetuam dois movimentos contraditórios: conservação da memória e promoção cultural.

## QUESTÃO 42

1 Em menos de um mês de campanha, os Correios arrecadaram 103 toneladas de donativos para as vítimas das enchentes no Rio de Janeiro. A campanha Correios  
4 Solidariedade Expressa, iniciada em 24 de janeiro, encerrou-se em 16 de fevereiro. Nesse período, as agências dos Correios de todo o Brasil aceitaram a postagem gratuita de donativos:  
7 alimentos não perecíveis, vestuário, roupas de cama, mesa e banho, calçados, tendas e barracas. Os produtos foram encaminhados à Defesa Civil do Rio de Janeiro.

*Idem, ibidem.*

As vírgulas nas linhas 7 e 8 são empregadas para separar

- A) substantivos comuns que funcionam como sujeito.
- B) termos de uma enumeração.
- C) adjuntos adverbiais de modo.
- D) palavras que complementam o sentido do substantivo “postagem” (l.6).
- E) palavras que exercem função de aposto.

## QUESTÃO 43

1 O transcorrer da história postal corresponde à crescente transformação histórica do próprio país, razão pela qual conhecer os principais fatos ligados à implementação e ao  
4 aperfeiçoamento dos serviços postais fornece um panorama do desenvolvimento histórico brasileiro.

*Idem, ibidem.*

Emprega-se o sinal indicativo de crase em “corresponde à crescente transformação histórica” (l.1-2) porque

- A) a expressão “história postal” (l.1) exige complemento antecedido por artigo definido feminino.
- B) a forma verbal “corresponde” exige complemento regido da preposição **a**, e a expressão que a complementa é precedida do artigo definido **a**.
- C) a expressão “transformação histórica” deve ser imediatamente precedida da preposição **a**.
- D) a forma verbal “transcorrer” exige complemento regido da preposição **a**.
- E) a forma verbal “transcorrer” (l.1) foi transformada em substantivo pela anteposição do artigo “O”.

## QUESTÃO 44

Nas opções a seguir, são apresentados trechos adaptados de texto extraído do sítio dos Correios na Internet. Assinale a opção em que o trecho está gramaticalmente correto.

- A) Com a chegada de Pedro Álvares Cabral ao Brasil, em 1500, surgiu a primeira correspondência oficial ligada ao país. Nessa carta, Pero Vaz de Caminha relatava ao rei de Portugal, com notório entusiasmo, o descortinar de uma nova terra. Com esse acontecimento, eternizado na história brasileira, estava sendo escrita a primeira página da história do correio no Brasil.
- B) Os primórdios dos serviços postais no Brasil Colônia reporta ao correio de Portugal e à sua atuação nesse novo território. Durante os primeiros tempos da colonização, os portugueses não dispunha de um sistema postal bem organizado, tendo, às vezes, que recorrer ao de nações vizinhas.
- C) Nem a criação do Correio-Mor das Cartas do Mar, em 1673, resolveram o problema de ligação postal entre a nova terra com a metrópole. Assim, a dificuldade na comunicação entre Portugal e o então Brasil Colônia fez com que fosse instituído, definitiva e oficialmente, em 1798, os Correios Marítimos. Anos depois, surgiu a necessidade de se promover a expansão desses serviços para o interior da Colônia.
- D) O progresso comercial advindo da chegada da família real no novo mundo abriu caminhos afim de que o serviço postal se desenvolvesse. Esse fato permitiu a elaboração do primeiro Regulamento Postal do Brasil, o funcionamento regular dos Correios Marítimos e a emissão de novos decretos que criassem os Correios Interiores.
- E) Com o retorno de D. João VI, a Portugal, houveram períodos bastantes conturbados, que culminou com a independência do Brasil em 1822, quando os Correios desempenhou o importante papel de trazerem informações do Velho Mundo e aglutinarem aqui as forças em prol do rompimento com Portugal.

**Texto para as questões 45 e 46**

1 Durante o período imperial, os Correios do Brasil  
foram reorganizados, dando-se início ao processo de criação de  
administrações de correios nas províncias. Sob as ordens de  
4 D. Pedro II, as reformas postais instituíram o pagamento prévio  
de franquia unificada, lançaram os primeiros selos postais,  
criaram o quadro de carteiros, as caixas postais e de coleta e o  
7 serviço de distribuição domiciliária de correspondência na  
corte e nas províncias. Foi estabelecido o serviço telegráfico,  
e o Brasil aderiu, por tratados, aos organismos internacionais  
10 de telecomunicações recém-criados.

*Idem, ibidem.***QUESTÃO 45**

O texto permaneceria correto se a expressão “Foi estabelecido” (ℓ.8) fosse substituída por

- A Estabeleceriam-se.
- B Estabelecendo.
- C Estabeleceu-se.
- D Estabeleceram-se.
- E Estabelecer-se-iam.

**QUESTÃO 46**

Com base nas informações do texto, assinale a opção correta.

- A A criação, no Brasil, do quadro dos carteiros resultou das reformas postais implementadas ainda no período imperial.
- B As inovações no serviço de distribuição domiciliar de correspondência contribuíram para a autonomia das províncias brasileiras.
- C Embora os Correios brasileiros datem do período imperial, é recente a adesão do Brasil aos organismos internacionais de comunicações.
- D Com as reformas postais, surgiu o primeiro modelo de correspondência na corte portuguesa.
- E A criação do serviço telegráfico foi determinante para a adesão do Brasil aos organismos internacionais de comunicações.

**Texto para as questões 47 e 48**

1 Para atender a um país com dimensões continentais  
como o Brasil e fazer a entrega dos 8,3 bilhões de objetos  
por ano, a Empresa Brasileira de Correios e Telégrafos (ECT)  
4 emprega mais de 56 mil carteiros, o que representa mais da  
metade do efetivo da empresa. Desse total, cerca de 10% são  
mulheres. Juntos, os carteiros do Brasil percorrem, por dia,  
7 cerca de 390 mil quilômetros, o equivalente a quase 10 voltas  
completas ao redor da Terra. Antes de sair às ruas para entregar  
as correspondências, os carteiros realizam uma parte do seu  
10 trabalho em centros de distribuição domiciliária (local onde a  
carga postal é separada por ordem de ruas e de numeração) e  
em agências de correio com distribuição domiciliária (agências  
13 pequenas).

*Idem, ibidem.***QUESTÃO 47**

Depreende-se das ideias do texto que

- A os carteiros entregam as correspondências nos centros de distribuição domiciliária.
- B os carteiros exercem outras funções além da entrega de correspondências.
- C cada carteiro percorre, diariamente, quase 400 quilômetros.
- D menos de 50% dos funcionários da ECT são carteiros.
- E a maior proporção de carteiros da ECT é formada de mulheres.

**QUESTÃO 48**

Em “Para atender” (ℓ.1), o termo “Para” introduz oração que expressa, no período, sentido de

- A oposição.
- B causa.
- C conclusão.
- D finalidade.
- E condição.

**QUESTÃO 49**

As opções a seguir contêm trechos adaptados de texto extraído do sítio dos Correios na Internet. Assinale a opção em que o trecho apresentado está gramaticalmente correto.

- A Exemplo de ação de caráter social que envolve os carteiros e tem tido grande receptividade é o Papai Noel nos Correios. Desde 1997, quando se transformou em projeto corporativo, passou a ser desenvolvido em todas 28 diretorias regionais.
- B Em 2009, dois estados testaram um novo modelo para o projeto, segundo o qual só podem participar crianças que cursam até o último ano da 1.ª etapa do ensino fundamental (ou seja, até o 4.º ou 5.º ano) de instituições de ensino públicas (municipais, estaduais ou federais), além de creches e abrigos.
- C A intenção é contribuir para o alcance do 2.º objetivo de desenvolvimento do milênio da ONU: educação básica de qualidade para todos.
- D Em 2009, os Correios receberam 1.981.000 cartas, de todos os estados brasileiros, sendo que 21% foi adotado e atendido, por pessoas, que desejavam colaborar para um Natal mais solidário.
- E Os presentes são recebidos nas agências e entregues, em regiões carentes dos grandes centros urbanos, por carteiros ou outros empregados dos Correios, às crianças que escreveram as cartas.

## QUESTÃO 50

Com o desenvolvimento dos setores produtivos do Brasil na década de 60 do século XX, tornou-se necessária a reorganização do serviço postal por meio de um modelo mais moderno que o do Departamento de Correios e Telégrafos, subordinado ao Ministério da Viação e Obras Públicas, que não apresentava infraestrutura compatível com as necessidades dos usuários.

*Idem, ibidem.*

Assinale a opção em que o trecho apresentado constitui continuação coerente e gramaticalmente correta para o trecho acima.

- A Mesmo assim, nesse período a ECT consolidava, seu papel como importante agente da ação social do governo, atuando no pagamento de pensões e aposentadorias; na distribuição de livros escolares; no transporte de doações em casos de calamidade.
- B Apesar disso, o surgimento da ECT correspondia à uma nova postura por parte dos poderes públicos, com relação a importância das comunicações e, particularmente os serviços postais e telegráficos, para o desenvolvimento do país.
- C Portanto paralelamente, a partir de 1980, se intensificavam a preocupação com a ação cultural e o desenvolvimento de ações voltado a preservação do patrimônio cultural do Brasil, sobretudo no que referia-se a memória postal.
- D Entretanto, esse ciclo de desenvolvimento correspondeu as novas necessidades de uma clientela que pouco a pouco, viram as distâncias ser encurtadas e percorridas graças ao serviço postal, que se estruturou e passou a desenvolver e oferecer produtos e serviços, de acordo com a realidade do mercado e as necessidades de sua clientela.
- E No sentido de alcançar essa reorganização, foi criada, em 20 de março de 1969, pela Lei n.º 509, a ECT, empresa pública vinculada ao Ministério das Comunicações.

### Texto para as questões 51 e 52

1 Fumantes que diminuem o número de cigarros podem não  
 estar necessariamente reduzindo a quantidade de toxinas que inalam.  
 Um estudo realizado por Dorothy Hatsukami e outros pesquisadores  
 4 da Universidade de Minnesota revelou que fumantes inveterados  
 que diminuem a frequência de suas tragadas ainda assim respiram  
 duas vezes mais toxinas por cigarro que as pessoas que fumam  
 7 menos. Quando eles acendem menos cigarros, compensam os níveis  
 menores de nicotina inalando a fumaça de forma mais profunda ou  
 demorada. O estudo é consistente com trabalhos epidemiológicos  
 10 anteriores, que revelaram que indivíduos que diminuiram o número  
 de cigarros fumados não reduziram riscos à saúde. Moral da  
 história: “pode não haver benefício em fumar menos”, conclui a  
 pesquisadora. “Se os fumantes querem mesmo diminuir o risco de  
 13 câncer e doenças”, ela acrescenta, “precisam é parar de fumar”.

*Scientific American Brasil*, n.º 4, 2010, p. 11 (com adaptações).

## QUESTÃO 51

Com relação às ideias do texto, assinale a opção correta.

- A Pode-se afirmar, com base no texto, que fumar menos é a melhor alternativa para quem não consegue parar de fumar.
- B Os cientistas descobriram que a maneira como se traga a fumaça do cigarro não interfere na quantidade de nicotina inalada pelo fumante.
- C Cientistas comprovam que o número de cigarros acesos é diretamente proporcional à quantidade de nicotina absorvida pelos pulmões dos fumantes.
- D De acordo com pesquisa realizada, fumantes inveterados que passam a consumir menos cigarros efetuam tragadas mais prolongadas.
- E Depreende-se da leitura do texto que quem fuma pouco tem menos riscos de adquirir câncer e doenças respiratórias que os fumantes que consomem muitos cigarros.

## QUESTÃO 52

Com relação aos sentidos e aspectos gramaticais do texto, assinale a opção correta.

- A Seriam mantidas a correção gramatical e a coerência do texto caso a palavra ‘Se’ (l.13) fosse substituída por **Caso**.
- B A substituição da forma verbal “revelou” (l.4) por **revelaram** manteria a correção gramatical e o sentido original do texto.
- C Estaria mantido o sentido do texto caso a palavra **recentes** fosse empregada no lugar de “inveterados” (l.4).
- D A supressão da vírgula após a palavra “cigarros” (l.7) não prejudicaria a correção gramatical do período.
- E As aspas empregadas no texto delimitam citação.

### Texto para as questões 53 e 54

1 Normalmente as pessoas se mostram divididas em  
relação à percepção de acontecimentos bons ou ruins. Uma  
variação genética comum pode estar por trás dessas tendências  
4 para o otimismo ou pessimismo. Cientistas da Universidade de  
Essex, na Inglaterra, investigaram a serotonina, um  
neurotransmissor ligado ao humor, e estudaram a preferência  
7 de 97 voluntários relativamente a diferentes tipos de imagens.  
Pessoas em que se identificou apenas a versão longa do gene  
para a proteína transportadora de serotonina — que controla os  
10 níveis do neurotransmissor nas células do cérebro — tenderam  
a prestar atenção em figuras agradáveis (como imagens de  
chocolates) e evitaram as negativas (como fotografias de  
13 aranhas). As pessoas com a forma curta do gene apresentaram  
preferências opostas, embora não tão fortemente. Os  
resultados, que ajudam a explicar por que algumas pessoas são  
16 menos suscetíveis à ansiedade e depressão, podem inspirar  
terapeutas a ajudar outras a ver o lado bom das coisas.

*Idem, ibidem.*

#### QUESTÃO 53

Com relação a aspectos linguísticos do texto, assinale a opção correta.

- A A oração “que controla os níveis do neurotransmissor nas células do cérebro” (l.9-10) pode ser reescrita, com correção gramatical e sem prejuízo para o sentido do texto, da seguinte forma: onde se retém os patamares neurotransmissores das células cerebrais.
- B Os parênteses que delimitam a expressão “como imagens de chocolates” (l.11-12) podem ser substituídos, sem prejuízo à correção do texto, por travessões.
- C A substituição de “embora” (l.14) por **ou** não prejudicaria a correção nem o sentido do texto.
- D Na linha 17, após o vocábulo “outras”, está subentendida a palavra “terapeutas”.
- E O emprego de vírgula logo após o termo “Normalmente” (l.1) prejudicaria a correção gramatical, mas não alteraria o sentido do texto.

#### QUESTÃO 54

Assinale a opção correta de acordo com as informações do texto.

- A Infere-se do texto que pessoas otimistas são mais suscetíveis à depressão, porque se decepcionam mais.
- B De acordo com pesquisa realizada em universidade inglesa, quanto maior o nível de serotonina no cérebro, maior a disposição da pessoa para ajudar o próximo.
- C Segundo pesquisadores ingleses, pode haver uma explicação genética para a tendência humana ao otimismo e ao pessimismo.
- D Estudo científico comprova que são geralmente otimistas os indivíduos que possuem a versão curta do gene para a proteína transportadora de serotonina.
- E Conforme a pesquisa referida no texto, os pessimistas tendem a evitar imagens negativas e desagradáveis.

### Texto para as questões 55 e 56

1 Os dados chocam: metade dos jovens de 15 a 17 anos  
de idade estão fora do ensino médio, informa reportagem  
publicada na **Folha**, em março deste ano. Parte desse  
4 contingente estuda, com atraso, no ensino fundamental; outra  
parte, a face mais preocupante dessa estatística, deixou para  
trás os bancos escolares.

7 “Os alunos encontram um ensino médio organizado  
em torno de um número muito grande de disciplinas,  
sobrecarregadas de conteúdos mais voltados para vestibulares,  
10 muitos deles sem significado para suas vidas”, diz o presidente  
da Câmara de Educação Básica do Conselho Nacional de  
Educação.

13 O Conselho Nacional de Educação discute,  
atualmente, a atualização das diretrizes curriculares para o  
ensino médio. Um dos programas que tem servido de base para  
a discussão é o Ensino Médio Inovador, criado e financiado  
16 pelo Ministério da Educação e implementado em 357 escolas  
do país em 2010. De acordo com o programa, que se baseia em  
quatro eixos: trabalho, ciência, tecnologia e cultura, cada  
19 escola criaria seu plano de ação pedagógica, podendo eleger  
um desses eixos como principal ou misturá-los em atividades  
complementares, a serem desenvolvidas até fora da sala de  
22 aula. Outros focos são leitura, artes e atividades em  
laboratórios. Para isso, a carga horária passaria das 2.400 horas  
25 anuais obrigatórias para 3.000 e a dedicação dos professores  
passaria a ser integral.

Internet: <www.folha.uol.com.br> (com adaptações).

#### QUESTÃO 55

Com base nas informações do texto, é correto afirmar que

- A a exigência de dedicação integral dos professores no ensino médio constitui garantia de qualidade das aulas ministradas.
- B a maior parte dos jovens entre 15 e 17 anos de idade não frequenta a escola.
- C a sobrecarga de conteúdos que não fazem sentido para o aluno é o fator primordial da evasão escolar no ensino médio.
- D há necessidade de mudança no ensino médio para torná-lo mais atrativo e significativo para os jovens.
- E as atividades complementares propostas pelas escolas devem ser realizadas fora da sala de aula.

#### QUESTÃO 56

Com relação a aspectos estruturais do texto, assinale a opção correta.

- A O termo “os bancos escolares” (l.6) exerce a função de adjunto adverbial de lugar.
- B O pronome ‘deles’ (l.10) está empregado em referência a ‘vestibulares’ (l.9).
- C O sinal de dois-pontos empregado após a palavra “eixos” (l.19) introduz uma oração explicativa.
- D Com a supressão da vírgula logo após a palavra “pedagógica” (l.20), seriam preservados o sentido e a correção gramatical do texto.
- E A forma verbal “estão” (l.2) pode ser substituída por **está**, sem prejuízo à correção gramatical e à coerência do texto.

### Texto para as questões 57 e 58

1 Que tipo de gente joga lixo na rua pela janela do carro  
ou deixa a praia emporcalhada quando sai? Uma das respostas  
corretas é: um tipo que está se tornando mais raro. Sim. A atual  
4 geração de adultos foi criança em um tempo em que jogar  
papel de bala ou caixa vazia de biscoitos pela janela do carro  
quase nunca provocava uma bronca paterna. Foi adolescente  
7 quando amassar o maço vazio de cigarros e chutá-lo para longe  
não despertava, na audiência, nenhuma reação especial, além  
de um “vai ser perna de pau assim na China”. Chegou à idade  
10 adulta dando como certo que aquelas pessoas de macacão com  
a sigla do serviço de limpeza urbana estampada nas costas  
precisam trabalhar e, por isso, deve contribuir sujando as ruas.  
13 Bem, isso mudou. O espírito do nosso tempo pode não impedir,  
mas, pelo menos, não impele mais ninguém com algum grau de  
conexão com o atual estágio civilizatório da humanidade a se  
16 livrar de detritos em lugares públicos sem que isso tenha um  
peso, uma consequência. É feio. É um ato que contraria a ideia  
tão prevalente da sustentabilidade do planeta e da preciosidade  
19 que são os mananciais de água limpa, as porções de terra não  
contaminadas e as golfadas de ar puro. E, no entanto, as  
pessoas ainda sujam, e muito, as cidades impunemente.

Veja, 9/3/2011, p. 72-3 (com adaptações).

#### QUESTÃO 57

Com base na leitura do texto, é correto afirmar que

- A sujar ruas, calçadas ou praias, no estágio civilizatório atual, gera implicações financeiras.
- B o comportamento atual do brasileiro, pautado na ideia de sustentabilidade e preservação do planeta, tem impedido o descarte de lixo em lugares inapropriados.
- C as novas gerações são mais conscientes da necessidade de preservar o meio ambiente.
- D jogar lixo nas ruas sempre foi alvo de recriminação, seja no âmbito familiar, seja no governamental.
- E a profissão de gari deixaria de existir se não houvesse lixo nas ruas.

#### QUESTÃO 58

Com relação aos sentidos e aspectos linguísticos do texto, assinale a opção correta.

- A A forma verbal “impele” (l.14) significa **desencoraja**.
- B O termo “prevalente” (l.18) poderia ser substituído, sem prejuízo à correção e ao sentido do texto, por **preventiva**.
- C O vocábulo “emporcalhada” (l.2) é formado por processo de composição.
- D O sujeito das orações “Foi adolescente” (l.6) e “Chegou à idade adulta” (l.9-10) remete a “A atual geração de adultos” (l.3-4).
- E No trecho “Chegou à idade” (l.9), é facultativo o emprego do sinal indicativo de crase.

### Texto para as questões 59 e 60

1 Cartão-postal brasileiro, o vasto litoral do Rio de  
Janeiro, um patrimônio natural de 246 quilômetros de areias  
pontilhado por montanhas, virou um caso emblemático de  
4 regressão a estágios civilizacionais mais primitivos. Para se ter  
uma ideia, 3.000 toneladas de lixo, só no mês de janeiro, foram  
recolhidas das praias cariocas — guimbas de cigarro, palitos de  
7 picolé, cocô de cachorro e restos de alimento. Empilhadas,  
essas evidências de vida pouco inteligente lotariam cinco  
piscinas olímpicas. Resume o historiador Marco Antonio Villa:  
10 “Ao contrário do cidadão dos países desenvolvidos, o  
brasileiro só vê como responsabilidade sua própria casa e não  
nutre nenhum senso de dever sobre os espaços que compartilha  
13 com os outros — um claro sinal de atraso”.

*Idem, ibidem.*

#### QUESTÃO 59

No que se refere à estrutura gramatical do texto, assinale a opção correta.

- A O vocábulo “cidadão” apresenta duas formas corretas de plural: cidadãos e cidadões.
- B O emprego da preposição “com” (l.13) é exigência sintática da forma verbal “compartilha” (l.12).
- C Na linha 12, o emprego da terceira pessoa do plural em “compartilha” — que passaria a **compartilham** — preservaria a correção gramatical e o sentido original do texto.
- D Os vocábulos “quilômetros”, “emblemático” e “picolé” são acentuados de acordo com a mesma regra de acentuação gráfica.
- E A substituição da preposição “por” (l.3) por **de** prejudica a correção gramatical e a coerência do período.

#### QUESTÃO 60

Considerando as ideias e a estruturação sintática do texto, assinale a opção correta.

- A Atribui-se ao turismo intenso na cidade do Rio de Janeiro a responsabilidade pela grande quantidade de lixo retirada das praias cariocas.
- B Na opinião do historiador Marco Antonio Villa, o povo brasileiro não se sente responsável pelo cuidado dos espaços que compartilha com os outros.
- C Na linha 6, a substituição do travessão por dois-pontos prejudicaria a correção gramatical do texto.
- D É possível afirmar que, em países desenvolvidos, as pessoas preocupam-se mais com a limpeza de locais públicos do que com suas próprias casas.
- E O sujeito da oração “Resume o historiador Marco Antonio Villa” (l.9) está oculto.



**cespeUnB**

Centro de Seleção e de Promoção de Eventos